

T.C.
Millî Eğitim Bakanlığı
Hayat Boyu Öğrenme Genel Müdürlüğü

YETİŞKİNLER OKUMA YAZMA ÖĞRETİMİ KURSIYER EĞİTİM ARACI (I. KADEME)

YAZARLAR

Dr. Yeliz ÇELEN
Mehtap ERMAN
Sevgi SÜREK HET
Yeşim SEYHAN



DEVLET KİTAPLARI
BİRİNCİ BASKI
....., 2021

MİLLÎ EĞİTİM BAKANLIĞI YAYINLARI	7638
YARDINCI KAYNAK KİTAPLARI DİZİSİ	1663

Her hakkı saklıdır ve Millî Eğitim Bakanlığına aittir. Kitabın metin, soru ve şekilleri kısmen de olsa hiçbir surette alınıp yayımlanamaz.

ISBN

798-975-11-XXXX-X



EDİTÖR

Ömer SAYGIN



ÖLÇME VE DEĞERLENDİRME UZMANI

Mehtap ERMAN



DİZGİ/GRAFİK TASARIM

Gülşah EVREN



DİL UZMANI

Yavuz SÜRMEİ

Millî Eğitim Bakanlığı, Talim ve Terbiye Kurulunun XX.XX.2021 gün ve XX sayılı kararı ile eğitim aracı olarak kabul edilmiştir. Destek Hizmetleri Genel Müdürlüğünün XX.XX.2021 gün ve XX sayılı yazısı ile ilk defa XXXXX adet basılmıştır.



İSTİKLÂL MARŞI

Korkma, sönmez bu şafaklarda yüzen al sancak;
Sönmeden yurdumun üstünde tüten en son ocak.
O benim milletimin yıldızıdır, parlayacak;
O benimdir, o benim milletimindir ancak.

Çatma, kurban olayım, çehreni ey nazlı hilâl!
Kahraman ırkıma bir gül! Ne bu şiddet, bu celâl?
Sana olmaz dökülen kanlarımız sonra helâl.
Hakkıdır Hakk'a tapan milletimin istiklâl.

Ben ezelden beridir hür yaşadım, hür yaşarım.
Hangi çılgın bana zincir vuracakmış? Şaşarım!
Kükremiş sel gibiyim, bendimi çiğner, aşarım.
Yırtarım dağları, enginlere sığmam, taşarım.

Garbın âfâkını sarmışsa çelik zırhlı duvar,
Benim iman dolu göğsüm gibi serhaddim var.
Ulusun, korkma! Nasıl böyle bir imanı boğar,
Medeniyet dediğin tek dişi kalmış canavar?

Arkadaş, yurduma alçakları uğratma sakın;
Siper et gövdeni, dursun bu hayâsızca akın.
Doğacaktır sana va'dettiği günler Hakk'ın;
Kim bilir, belki yarın, belki yarından da yakın.

Bastığın yerleri toprak diyerek geçme, tanı:
Düşün altındaki binlerce kefensiz yatanı.
Sen şehit oğlusun, incitme, yazıktır, atanı:
Verme, dünyaları alsan da bu cennet vatanı.

Kim bu cennet vatanın uğruna olmaz ki feda?
Şüheda fışkıracak toprağı sıksan, şüheda!
Cânı, cânânı, bütün varımı alsın da Huda,
Etmesin tek vatanımdan beni dünyada cüda.

Ruhumun senden İlâhî, şudur ancak emeli:
Değmesin mabedimin göğsüne nâmahrem eli.
Bu ezanlar -ki şehadetleri dinin temeli-
Ebedî yurdumun üstünde benim inlemeli.

O zaman vecd ile bin secde eder -varsa- taşım,
Her cerîhamdan İlâhî, boşanıp kanlı yaşım,
Fışkırır ruh-ı mücerret gibi yerden na'sım;
O zaman yükselerek arşa değer belki başım.

Dalgalan sen de şafaklar gibi ey şanlı hilâl!
Olsun artık dökülen kanlarımın hepsi helâl.
Ebediyen sana yok, ırkıma yok izmihlâl;
Hakkıdır hür yaşamış bayrağımın hürriyyet;
Hakkıdır Hakk'a tapan milletimin istiklâl!

Mehmet Âkif Ersoy


GENÇLİĞE HİTABE

Ey Türk gençliği! Birinci vazifen, Türk istiklâlini, Türk Cumhuriyetini, ilelebet muhafaza ve müdafaa etmektir.

Mevcudiyetinin ve istikbalinin yegâne temeli budur. Bu temel, senin en kıymetli hazinendir. İstikbalde dahi, seni bu hazineden mahrum etmek isteyecek dâhilî ve hâricî bedhahların olacaktır. Bir gün, istiklâl ve cumhuriyeti müdafaa mecburiyetine düşersen, vazifeye atılmak için, içinde bulunacağın vaziyetin imkân ve şeraitini düşünmeyeceksin! Bu imkân ve şerait, çok namüsait bir mahiyette tezahür edebilir. İstiklâl ve cumhuriyetine kastedecek düşmanlar, bütün dünyada emsali görülmemiş bir galibiyetin mümessili olabilirler. Cebren ve hile ile aziz vatanın bütün kaleleri zapt edilmiş, bütün tersanelerine girilmiş, bütün orduları dağıtılmış ve memleketin her köşesi bilfiil işgal edilmiş olabilir. Bütün bu şeraitten daha elîm ve daha vahim olmak üzere, memleketin dâhilinde iktidara sahip olanlar gaflet ve dalâlet ve hattâ hıyanet içinde bulunabilirler. Hattâ bu iktidar sahipleri şahsî menfaatlerini, müstevlîlerin siyasî emelleriyle tevhit edebilirler. Millet, fakr u zaruret içinde harap ve bîtap düşmüş olabilir.

Ey Türk istikbalinin evlâdı! İşte, bu ahval ve şerait içinde dahi vazifen, Türk istiklâl ve cumhuriyetini kurtarmaktır. Muhtaç olduğun kudret, damarlarındaki asil kanda mevcuttur.

Mustafa Kemal Atatürk



MUSTAFA KEMAL ATATÜRK

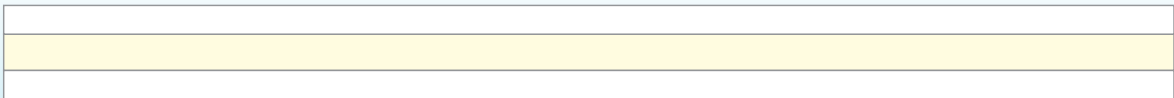
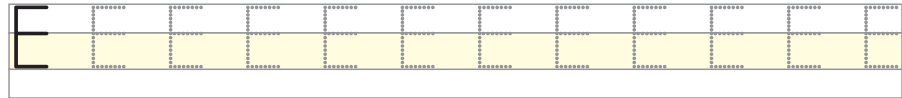
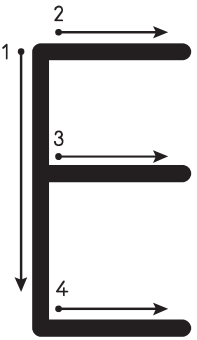
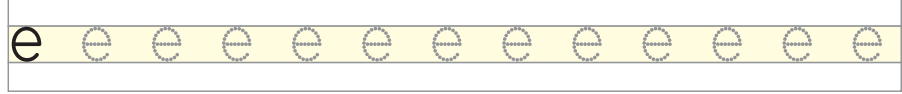
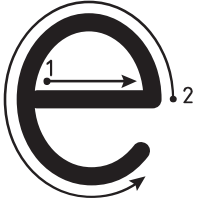
İÇİNDEKİLER

Gün	Sayfa
1. Gün	7
2. Gün	10
3. Gün	14
4. Gün	18
5. Gün	21
6. Gün	25
7. Gün	30
8. Gün	33
9. Gün	36
10. Gün	41
11. Gün	46
12. Gün	51
13. Gün	57
14. Gün	60
15. Gün	63
16. Gün	70
17. Gün	76
18. Gün	79
19. Gün	84
20. Gün	87
21. Gün	90
22. Gün	92
23. Gün	95
24. Gün	98
25. Gün	100
26. Gün	102
27. Gün	104
28. Gün	107
29. Gün	109
30. Gün	110
31. Gün	112
32. Gün	114
33. Gün	116
34. Gün	118
35. Gün	120
36. Gün	122
37. Gün	124
38. Gün	126
39. Gün	128
40. Gün	131
Cevap Anahtarı	132
Kaynakça	138



1. ETKİNLİK

Yazılış yönlerine dikkat ederek aşağıdaki “e”, “E” harflerini yazınız.



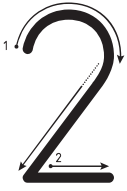


2. ETKİNLİK

Yazılış yönlerine dikkat ederek aşağıdaki rakamları yazınız.



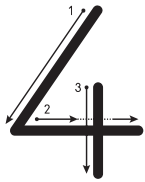
1 1 1 1



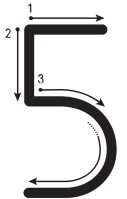
2 2 2 2



3 3 3 3



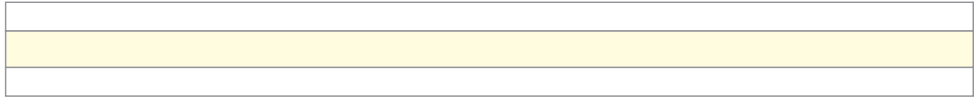

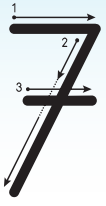
4 4 4 4



5 5 5 5



6 6 6 6



3. ETKİNLİK


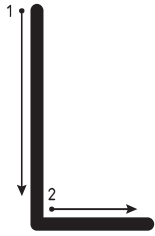
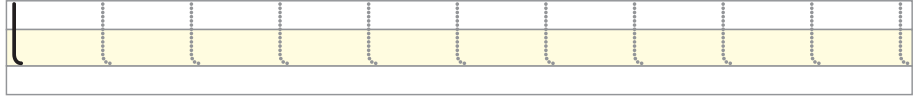
Aşağıdaki apartman kapı zilinde eksik bırakılan rakamları yazınız.





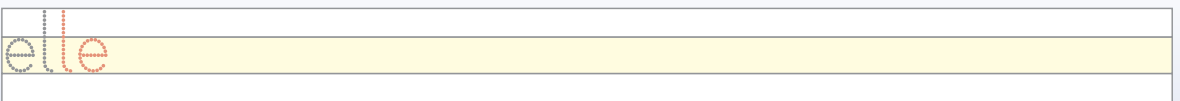
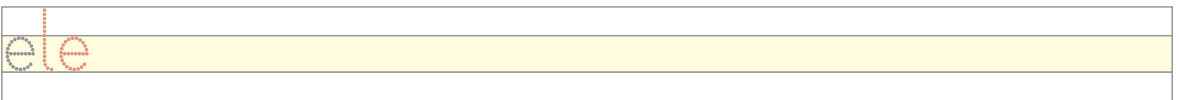
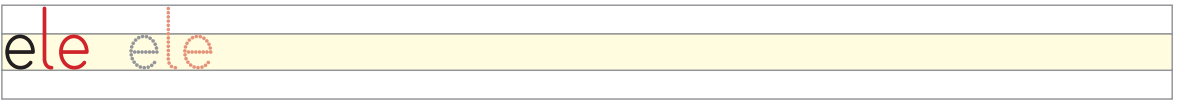
1. ETKİNLİK

Yazılış yönlerine dikkat ederek aşağıdaki "l", "L" harflerini yazınız.



2. ETKİNLİK

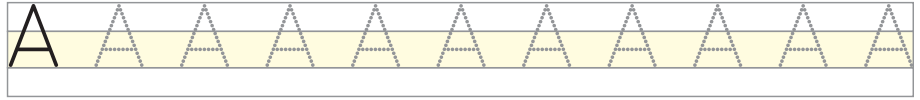
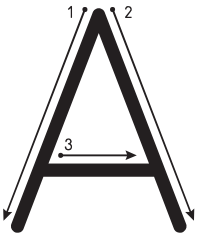
Aşağıdaki hece ve kelimeleri okuyunuz ve yazınız.





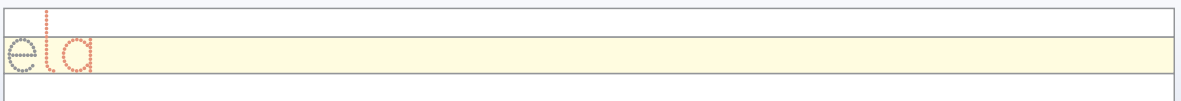
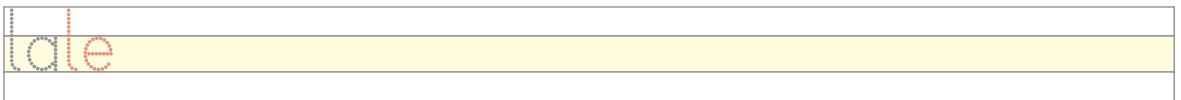
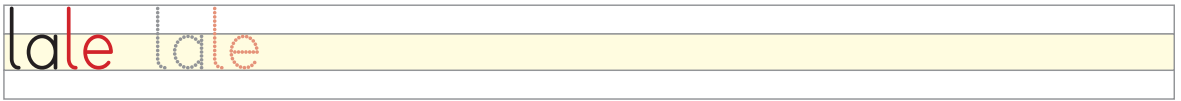
3. ETKİNLİK

Yazılış yönlerine dikkat ederek aşağıdaki "a", "A" harflerini yazınız.



4. ETKİNLİK

Aşağıdaki hece ve kelimeleri okuyunuz ve yazınız.





5. ETKİNLİK

Aşağıdaki cümleleri okuyunuz ve yazınız.

Ela al.

Ela lale al.

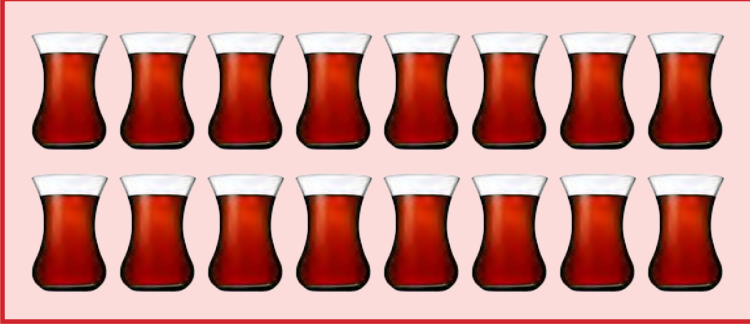
Lale Ela el ele.

Ela 2 lale al.



6. ETKİNLİK

Aşağıdaki nesnelere sayıp yanlarına sayılarını yazınız.



.....

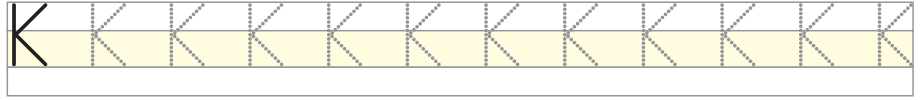
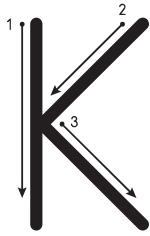
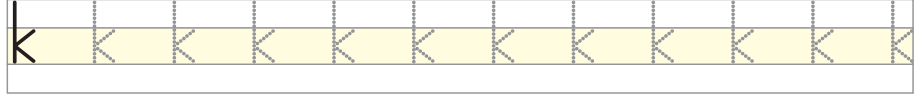
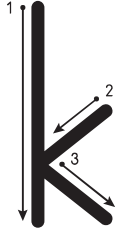


.....



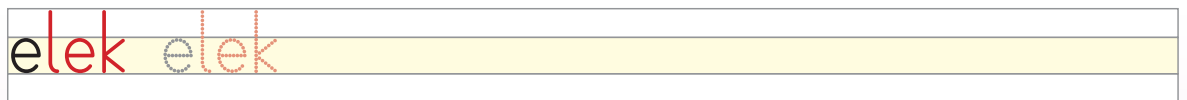
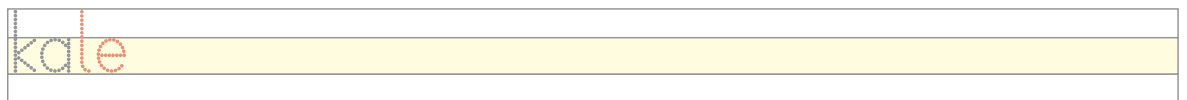
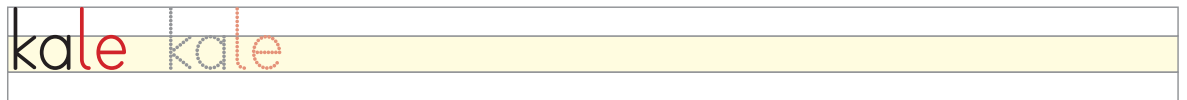
1. ETKİNLİK

Yazılış yönlerine dikkat ederek aşağıdaki "k", "K" harflerini yazınız.



2. ETKİNLİK

Aşağıdaki hece ve kelimeleri okuyunuz ve yazınız.





3. ETKİNLİK

Aşağıdaki cümleleri okuyunuz ve yazınız.

Lale kalk.

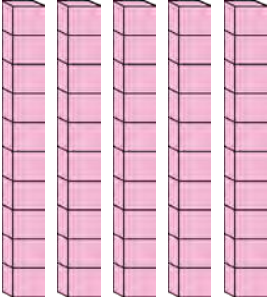

3 lale al.

Ela kelek al.

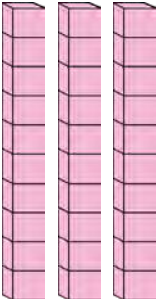

Lale elek al.



4. ETKİNLİK

Örnek:

	
.....5..... Onluk8..... Birlik
.....58.....	

Tablolarda boş bırakılan noktalı yerleri örnekteki gibi doldurunuz.

	
..... Onluk Birlik
3.....	



	
..... Onluk Birlik
.....7	





5. ETKİNLİK

Aşağıda onluk bloklarla modellenen sayıları yazınız.

1

	
..... Onluk Birlik
.....	

2

	
..... Onluk Birlik
.....	



1. ETKİNLİK

Yazılış yönlerine dikkat ederek aşağıdaki "ı", "İ" harflerini yazınız.



ı	ı	ı	ı	ı	ı	ı	ı	ı	ı	ı	ı	ı	ı	ı	ı	ı	ı	ı	ı	ı	ı	ı	ı	ı	ı	ı
ı																										
İ																										
İ																										



2. ETKİNLİK

Aşağıdaki hece ve kelimeleri okuyunuz ve yazınız.

ki	
iki	
Ali	
ilke	
ekili	
killi	



3. ETKİNLİK

Aşağıdaki cümleleri okuyunuz ve yazınız.

Ela iki kek al.

İlke elli kek al.


Ali İlke ile kek al.

İlke iki tane al.




4. ETKİNLİK

Aşağıdaki çay bardaklarını örnekteki gibi destelere ayırınız. Kaç deste olduğunu verilen boşluğa yazınız.



.....

Aşağıdaki armutların 1 düzine olması için kaç tane daha armuda ihtiyaç vardır? Verilen boşluğa yazınız.

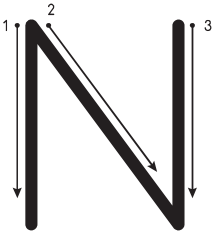
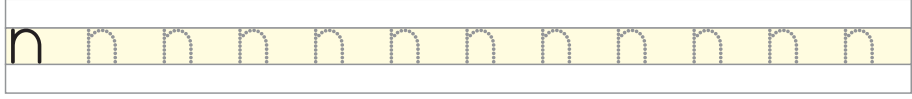
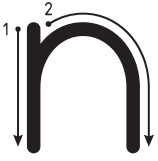


.....



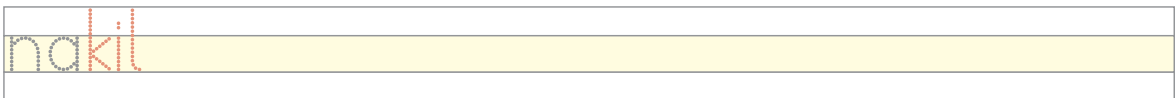
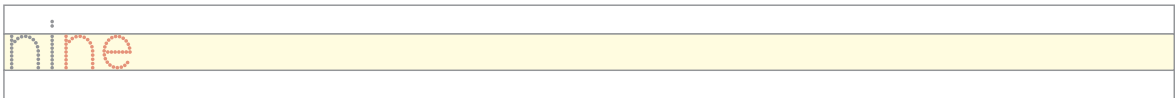
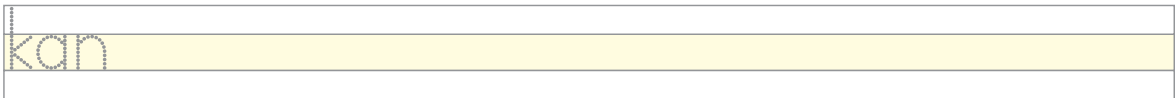
1. ETKİNLİK

Yazılış yönlerine dikkat ederek aşağıdaki "n", "N" harflerini yazınız.



2. ETKİNLİK

Aşağıdaki hece ve kelimeleri okuyunuz ve yazınız.





3. ETKİNLİK

Aşağıdaki cümleleri okuyunuz ve yazınız.

Nalan anneni anla.

Kenan eline tale al.

Nil kalan keki al.



4. ETKİNLİK

Aşağıdaki sayıları okuyunuz.

569

389

450

230

785

165

544

671

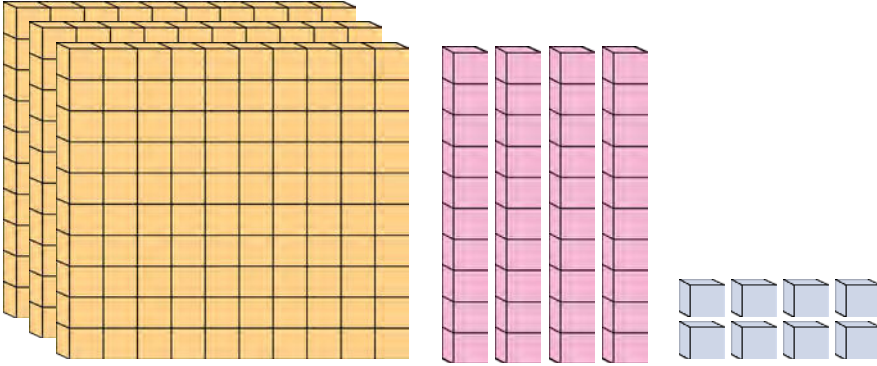
943

810

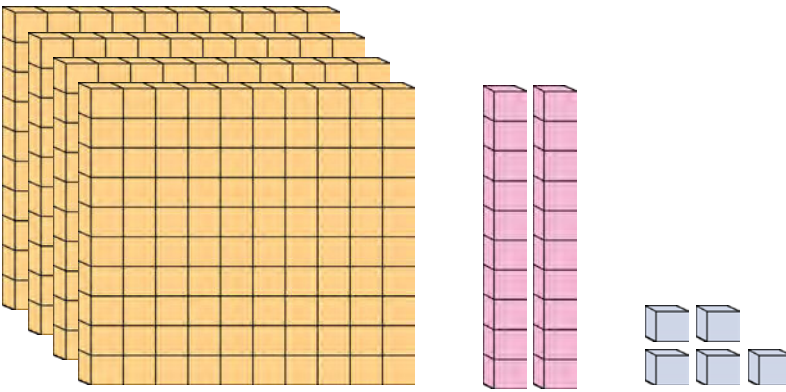


5. ETKİNLİK

Aşağıda onluk bloklarla verilen sayıların basamak değerlerini altlarındaki tablolara yazınız.



Sayı		
Basamak Adı	Yüzler Basamağı	Onlar Basamağı	Birler Basamağı
Basamak Değeri



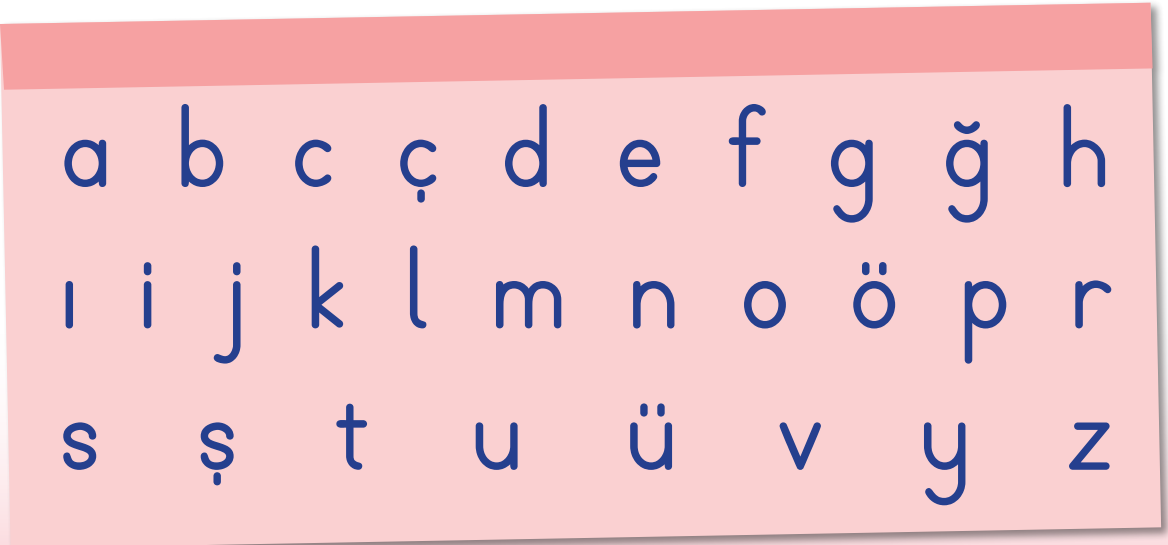
Sayı		
Basamak Adı	Yüzler Basamağı	Onlar Basamağı	Birler Basamağı
Basamak Değeri

1. HARF GRUBU ETKİNLİĞİ

Aşağıdaki tabloda öğrenmiş olduğunuz büyük harfleri bularak yuvarlak içine alınız.



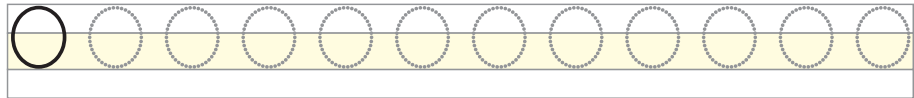
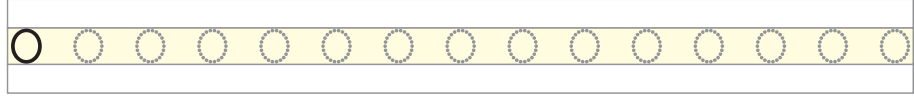
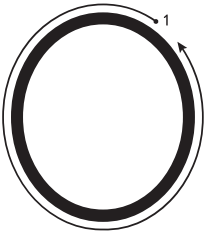
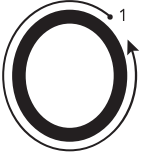
Aşağıdaki tabloda öğrenmiş olduğunuz küçük harfleri bularak yuvarlak içine alınız.





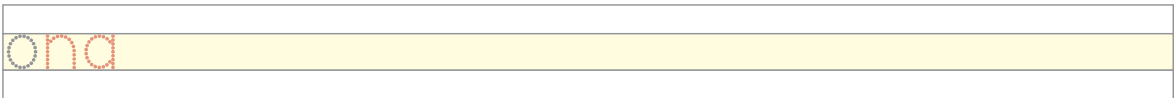
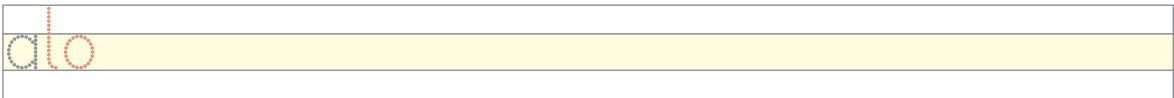
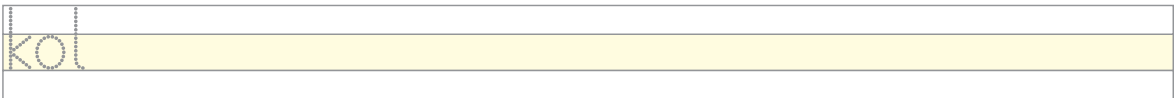
1. ETKİNLİK

Yazılış yönlerine dikkat ederek aşağıdaki "o", "O" harflerini yazınız.



2. ETKİNLİK

Aşağıdaki hece ve kelimeleri okuyunuz ve yazınız.





3. ETKİNLİK

Aşağıdaki cümleleri okuyunuz ve yazınız.

Okan komik olma.

Ela koli al.

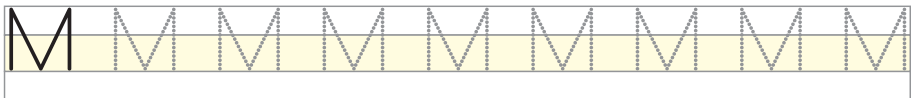
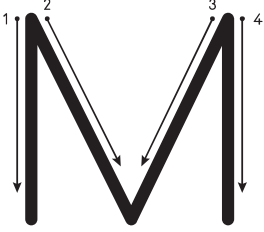
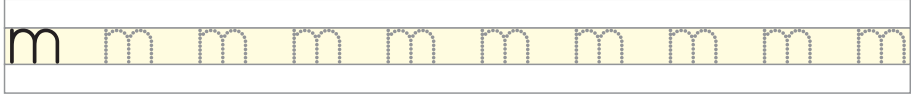
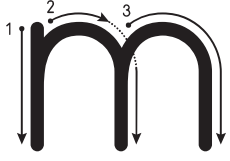
Okan on iki kek al.

Nit on koli kek al.



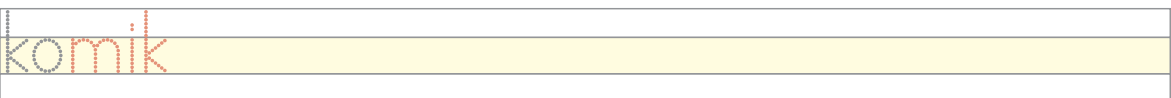
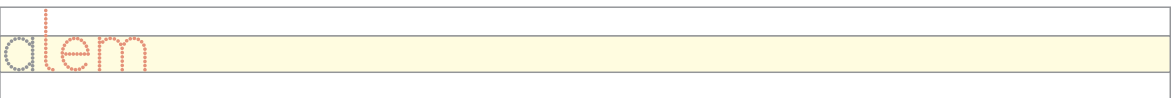
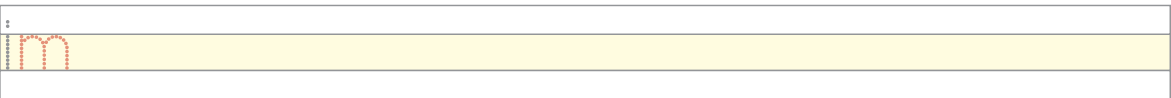
4. ETKİNLİK

Yazılış yönlerine dikkat ederek aşağıdaki "m", "M" harflerini yazınız.



5. ETKİNLİK

Aşağıdaki hece ve kelimeleri okuyunuz ve yazınız.





6. ETKİNLİK

Aşağıdaki cümleleri okuyunuz ve yazınız.

Mine limon al.

Emel lokma al.

Leman ekmek alma.



7. ETKİNLİK

Aşağıdaki sayıları okuyunuz.

1569

3893

4560

2300

7855

1695

5447

6010

5510

1020

2002

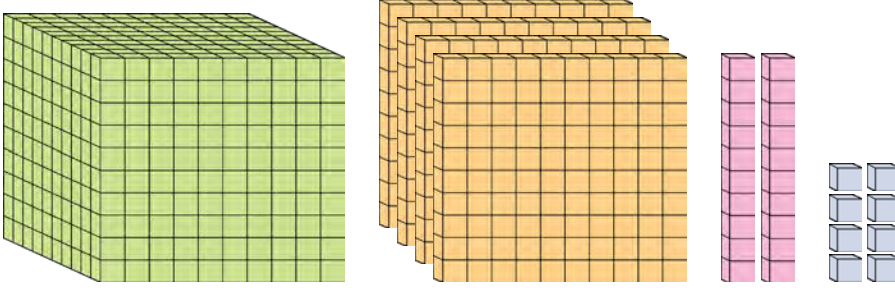
6971

9090

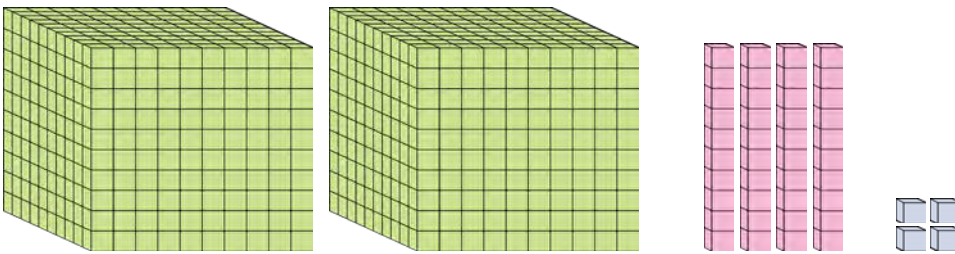
9991

8. ETKİNLİK

Aşağıda onluk bloklarla verilen sayıların basamak değerlerini altlarındaki tablolara yazınız.



Sayı			
Basamak Adı	Binler Basamağı	Yüzler Basamağı	Onlar Basamağı	Birler Basamağı
Basamak Değeri

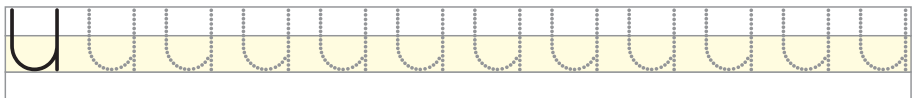
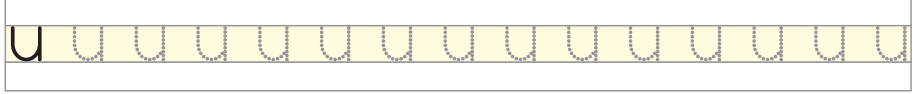
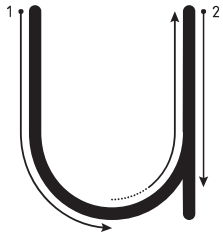
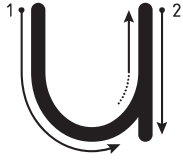


Sayı			
Basamak Adı	Binler Basamağı	Yüzler Basamağı	Onlar Basamağı	Birler Basamağı
Basamak Değeri



1. ETKİNLİK

Yazılış yönlerine dikkat ederek aşağıdaki "u", "U" harflerini yazınız.



2. ETKİNLİK

Aşağıdaki hece ve kelimeleri okuyunuz ve yazınız.

un

oku

oluk

kukla

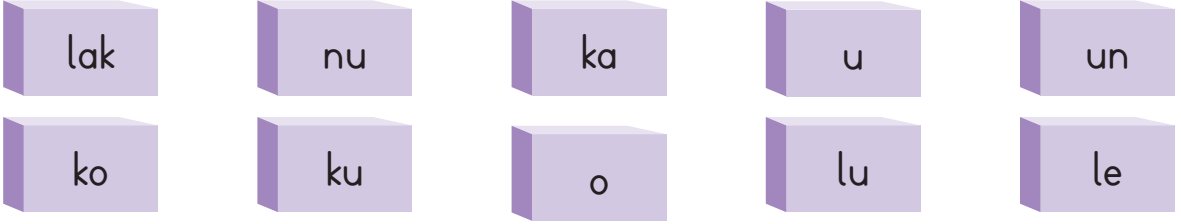
konuk

Numan



3. ETKİNLİK

Aşağıdaki hecelerden örnekteki gibi en az 4 tane kelime türetiniz ve yazınız.



k o n u	



4. ETKİNLİK

Aşağıdaki cümleleri okuyunuz ve yazınız.

Okan oku.

Numan limontuk al.

Annene kokulu mum al.



5. ETKİNLİK

1. Aşağıda verilen sayıdan başlayarak ileriye 5'er ritmik sayarak boş bırakılan yerleri doldurunuz.

45	55
.....	85

2. Aşağıda verilen sayıdan başlayarak ileriye 10'ar ritmik sayarak boş bırakılan yerleri doldurunuz.

10	30
50	70	80
.....	100	120

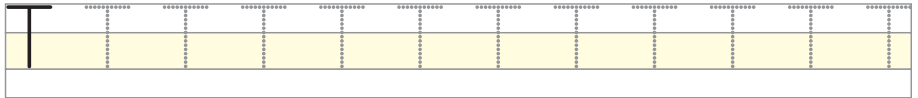
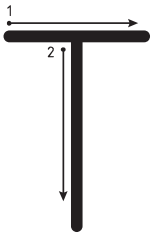
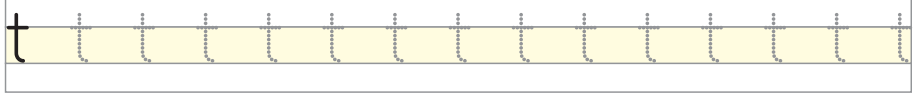
3. Aşağıda verilen sayıdan başlayarak ileriye 100'er ritmik sayarak boş bırakılan yerleri doldurunuz.

100	400
.....	800



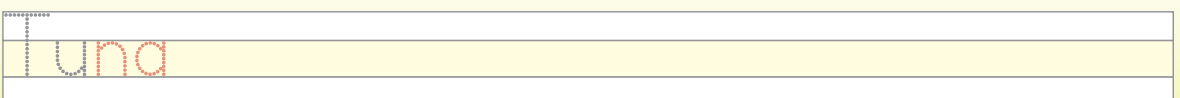
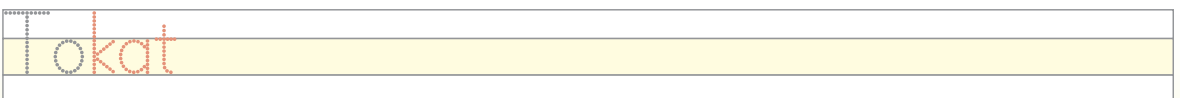
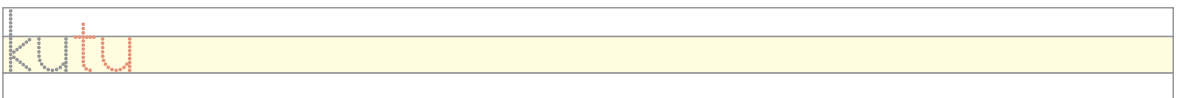
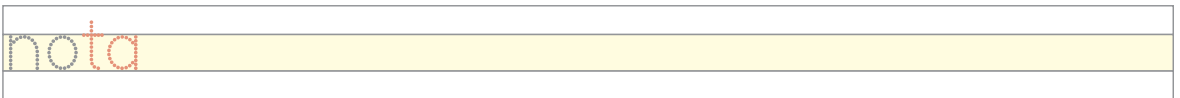
1. ETKİNLİK

Yazılış yönlerine dikkat ederek aşağıdaki "t", "T" harflerini yazınız.



2. ETKİNLİK

Aşağıdaki hece ve kelimeleri okuyunuz ve yazınız.





3. ETKİNLİK

Aşağıdaki kelimeleri örnekteki gibi hecelerine ayırarak yazınız.

Ela

toka

kutu

E la



4. ETKİNLİK

Aşağıdaki cümleleri okuyunuz ve yazınız.

Tuna koluma tutun.

Tutku anneni kutla.

Umut atlet katla.

Ela kutu kutu toka al.

5. ETKİNLİK

Aşağıdaki toplama işlemlerini yapınız.

$$\begin{array}{r} 1 \\ 20 \\ + 20 \\ \hline \dots\dots\dots \end{array}$$

$$\begin{array}{r} 2 \\ 40 \\ + 58 \\ \hline \dots\dots\dots \end{array}$$

$$\begin{array}{r} 3 \\ 55 \\ + 62 \\ \hline \dots\dots\dots \end{array}$$

$$\begin{array}{r} 4 \\ 136 \\ + 43 \\ \hline \dots\dots\dots \end{array}$$

$$\begin{array}{r} 5 \\ 345 \\ + 11 \\ \hline \dots\dots\dots \end{array}$$

$$\begin{array}{r} 6 \\ 445 \\ + 412 \\ \hline \dots\dots\dots \end{array}$$

$$\begin{array}{r} 7 \\ 1020 \\ + 256 \\ \hline \dots\dots\dots \end{array}$$

$$\begin{array}{r} 8 \\ 1063 \\ + 110 \\ \hline \dots\dots\dots \end{array}$$

$$\begin{array}{r} 9 \\ 2225 \\ + 22 \\ \hline \dots\dots\dots \end{array}$$

6. ETKİNLİK

Aşağıdaki tabloda boş bırakılan yerleri yukarıdan aşağıya, sağdan sola rakamların toplamları 9 olacak şekilde doldurunuz.

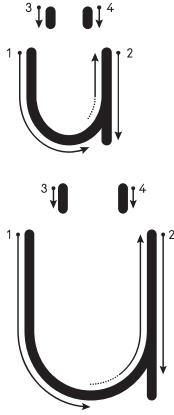
SAYI BULMACASI

2	4
.....	2
3	4



1. ETKİNLİK

Yazılış yönlerine dikkat ederek aşağıdaki "ü", "Ü" harflerini yazınız.



ü ü ü ü ü ü ü ü ü ü ü ü ü ü ü ü

ü

Ü Ü Ü Ü Ü Ü Ü Ü Ü Ü Ü Ü Ü Ü Ü Ü

Ü



2. ETKİNLİK

Aşağıdaki hece ve kelimeleri okuyunuz ve yazınız.

tün

ütü

Ünal

kütük

tüketmek

ütülemek



3. ETKİNLİK

Aşağıdaki cümleleri okuyunuz ve örnekteki gibi yazınız.

Ünal ütü al.

Blank handwriting practice lines for the first sentence.

Ümit mülk al.

Blank handwriting practice lines for the second sentence.

Ülkü ümitli ol.

Blank handwriting practice lines for the third sentence.

Ümit tüneli kullan.

Blank handwriting practice lines for the fourth sentence.

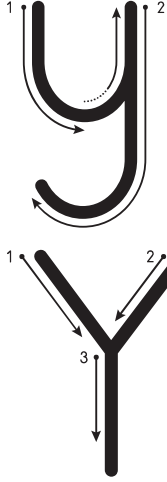
Ünal ününe ün kattı.

Blank handwriting practice lines for the fifth sentence.



4. ETKİNLİK

Yazılış yönlerine dikkat ederek aşağıdaki "y", "Y" harflerini yazınız.



y	y	y	y	y	y	y	y	y	y	y	y	y	y	y
y														
Y	Y	Y	Y	Y	Y	Y	Y	Y	Y	Y	Y	Y	Y	Y
Y														



5. ETKİNLİK

Aşağıdaki hece ve kelimeleri okuyunuz ve yazınız.

yan	
yün	
yelek	
oymak	
yakmak	
uyumak	



6. ETKİNLİK

Aşağıdaki cümleleri okuyunuz ve yazınız.

Oya yemin etti.

Blank lines for writing the sentence "Oya yemin etti."

Taylan, Aylin ile yemek ye.

Blank lines for writing the sentence "Taylan, Aylin ile yemek ye."

Yaman kamyonu yükle.

Blank lines for writing the sentence "Yaman kamyonu yükle."



7. ETKİNLİK

Aşağıdaki eldeli toplama işlemlerini yapınız.

$$\begin{array}{r} 1 \\ 48 \\ + 13 \\ \hline \end{array}$$

.....

$$\begin{array}{r} 2 \\ 56 \\ + 68 \\ \hline \end{array}$$

.....

$$\begin{array}{r} 3 \\ 91 \\ + 19 \\ \hline \end{array}$$

.....

$$\begin{array}{r} 4 \\ 365 \\ + 428 \\ \hline \end{array}$$

.....

$$5 \quad 24 + 12 + 5 = \dots\dots\dots$$

$$8 \quad 102 + 17 + 11 = \dots\dots\dots$$

$$6 \quad 100 + 46 + 18 = \dots\dots\dots$$

$$9 \quad 120 + 15 + 16 = \dots\dots\dots$$

$$7 \quad 28 + 16 + 14 + 6 = \dots\dots\dots$$

$$10 \quad 130 + 102 + 19 = \dots\dots\dots$$

2. HARF GRUBU ETKİNLİĞİ

Aşağıdaki bulmacayı çözünüz.

1

2

3

4

5

6

7

4

6

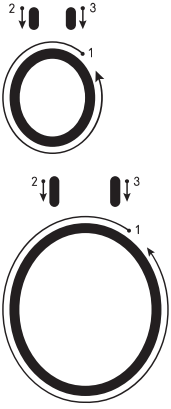
7

5



1. ETKİNLİK

Yazılış yönlerine dikkat ederek aşağıdaki "ö", "Ö" harflerini yazınız.



ö	ö	ö	ö	ö	ö	ö	ö	ö	ö	ö	ö	ö	ö
ö													
Ö	Ö	Ö	Ö	Ö	Ö	Ö	Ö	Ö	Ö	Ö	Ö	Ö	Ö
Ö													



2. ETKİNLİK

Aşağıdaki hece ve kelimeleri okuyunuz ve yazınız.

yön	
öykü	
önem	
önlem	
köklü	
yönetmek	



3. ETKİNLİK

Aşağıdaki cümleleri okuyunuz ve yazınız.

Ülkü önlük al.

Köyün yolu kötü.

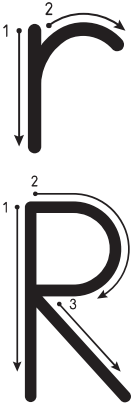
Öykü kötülük etme.

Ali taleyi köküyle al.



4. ETKİNLİK

Yazılış yönlerine dikkat ederek aşağıdaki "r", "R" harflerini yazınız.



r	r	r	r	r	r	r	r	r	r	r	r	r	r	r	r	r	r	r	r	r
r																				
R	R	R	R	R	R	R	R	R	R	R	R	R	R	R	R	R	R	R	R	R
R																				



5. ETKİNLİK

Aşağıdaki hece ve kelimeleri okuyunuz ve yazınız.

ray	
roka	
kirli	
raket	
kartal	
Türkiye	



6. ETKİNLİK

Aşağıdaki cümleleri okuyunuz ve yazınız.

Ömer erikli turta al.

Onur martta lale ek.

Eren terlik, tarak al.

Nur tarlaya roka, tere ek.



7. ETKİNLİK

Aşağıdaki metni okuyunuz. Okuduğunuz metinde bugün öğrendiğiniz sesleri bulup işaretleyiniz.

MARKET

Ömer marketten armut ile tere al. 2 kilo armut al. 1 kilo armut 6 TL. 2 kilo armut 12 TL. Roka ile tereyi unutma. Öykü'ye elma al. Unutma.



8. ETKİNLİK

Aşağıdaki toplama işleminin sonucunu tahmin ediniz. İşlem yaparak gerçek sonuç ile tahmininizi karşılaştırınız. Sonrasında tahmini sonucun gerçek sonuçtan ne kadar fazla olduğunu yazınız.

250	Tahmini Sonuç
+ 148	Gerçek Sonuç
.....		

Tahmini sonuç gerçek sonuçtan fazladır.



9. ETKİNLİK

Aşağıdaki etiketlerin toplamını tahmin ediniz. İşlem yaparak gerçek sonuç ile tahmininizi karşılaştırınız. Sonrasında tahmini sonucun gerçek sonuçtan ne kadar fazla olduğunu yazınız.



Tahmini Sonuç
Gerçek Sonuç

Tahmini sonuç gerçek sonuçtan fazladır.



1. ETKİNLİK

Yazılış yönlerine dikkat ederek aşağıdaki "ı", "l" harflerini yazınız.





2. ETKİNLİK

Aşağıdaki hece ve kelimeleri okuyunuz ve yazınız.

kit	
gıl	
kıtır	
kayıt	
kitlik	
İrmak	



3. ETKİNLİK

Aşağıda karışık şekilde verilen kelimelerle örnekteki gibi anlamlı ve kurallı cümleler yazınız.

tanıt / Akın'ı / Anıl

Anıl Akın'ı tanıt.

tırmık / al / Akın

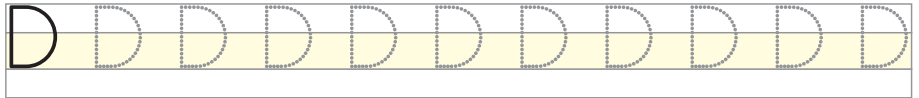
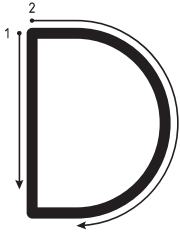
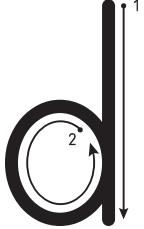
takı / taktı / ltr

kayıtlı / okula / Tanık



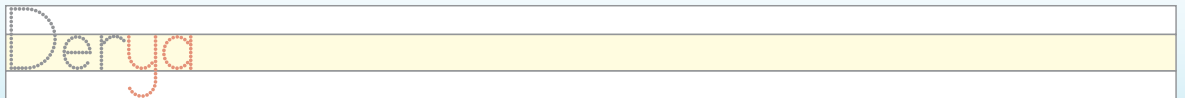
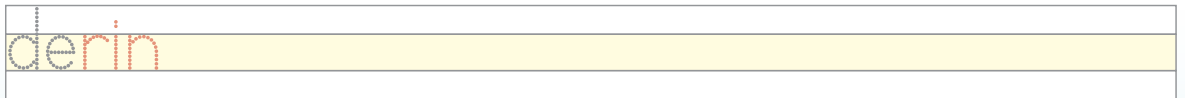
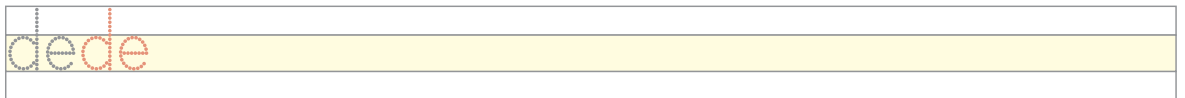
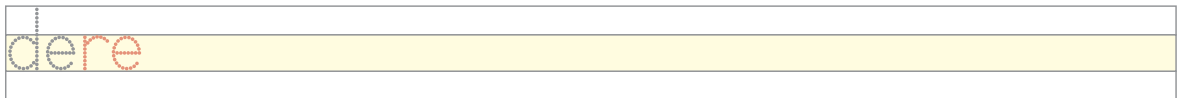
4. ETKİNLİK

Yazılış yönlerine dikkat ederek aşağıdaki "d", "D" harflerini yazınız.



5. ETKİNLİK

Aşağıdaki hece ve kelimeleri okuyunuz ve yazınız.





6. ETKİNLİK

Aşağıda karışık şekilde verilen kelimelerle anlamlı ve kurallı cümleler yazınız.

son / aydır / yılın / aralık / ayı

dut / daldan / Tank / aldı



7. ETKİNLİK

Aşağıdaki metni okuyunuz. Bugün öğrendiğiniz seslerin geçtiği kelimeleri bulup yazınız.

Aydos Ormanı, İstanbul'da Anadolu Yakası'nın en büyük ormanlık alanıdır. Orman İstanbul'un tam ortasındadır.



8. ETKİNLİK

Aşağıdaki toplama işlemlerini zihinden yapınız, sonuçlarını örnekteki gibi eşleştiriniz.

$45 + 18$

60

$80 + 12$

34

$69 + 10$

30

$13 + 17$

63

$22 + 18$

50

$51 + 27$

40

$20 + 14$

92

$16 + 32$

48

$35 + 15$

78

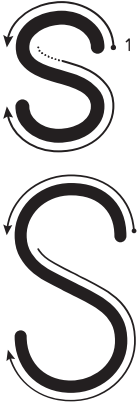
$40 + 20$

79



1. ETKİNLİK

Yazılış yönlerine dikkat ederek aşağıdaki "s", "S" harflerini yazınız.



S	s	s	s	s	s	s	s	s	s	s	s	s
s												
S	S	S	S	S	S	S	S	S	S	S	S	S
S												



2. ETKİNLİK

Aşağıdaki hece ve kelimeleri okuyunuz ve yazınız.

sis	
ses	
sirat	
Selim	
süslü	
salata	



3. ETKİNLİK

Aşağıda karışık şekilde verilen kelimelerle örnekteki gibi anlamlı ve kurallı cümleler yazınız.

oldum / muayene / doktora

Doktora muayene oldum.

ninene / Suna / soy / elma

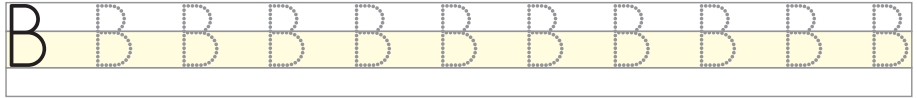
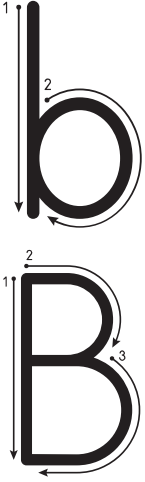
insandır / dürüst / Selim

limonunu / Sema / sık / salatanın



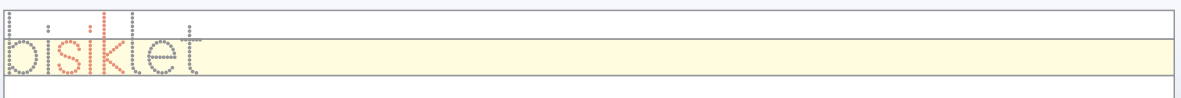
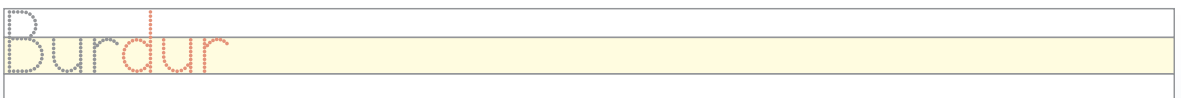
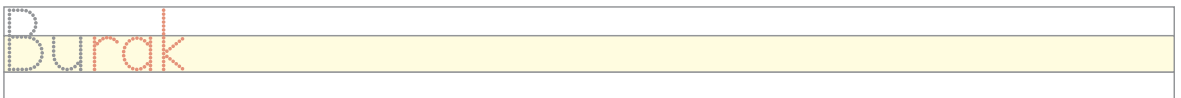
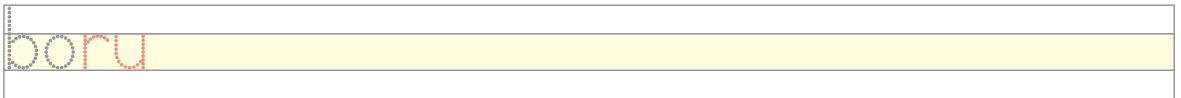
4. ETKİNLİK

Yazılış yönlerine dikkat ederek aşağıdaki "b", "B" harflerini yazınız.



5. ETKİNLİK


Aşağıdaki hece ve kelimeleri okuyunuz ve yazınız.





6. ETKİNLİK

Aşağıdaki hecelerden 4 tane kelime türetiniz ve yazınız.





7. ETKİNLİK

Aşağıda karışık şekilde verilen kelimelerden örnekteki gibi anlamlı ve kurallı cümleler yazınız.

Baki / aldın mı / ekmek / bakkaldan

Baki bakkaldan ekmek aldın mı?

tarlaya / bamya / babam / ekti

onardı mı / bisikleti / babam

bindi / otomobile / Burak

8. ETKİNLİK

Aşağıdaki problemleri çözünüz.

1/ Betül Hanım, ip almak için tuhafiyeye gitti. Eşi için 8 adet siyah ve 2 adet gri yumak ip aldı. Kızı için de 6 adet mavi yumak ip aldı. Betül Hanım toplam kaç yumak ip almıştır?

2/ Sefer Bey mutfak zemini için 112 tane, banyo için de 48 tane fayans aldı. Sefer Bey toplam kaç fayans almıştır?

9. ETKİNLİK

Aşağıdaki verilenlerle toplama işlemi gerektiren problem kurunuz ve çözünüz.



Biber fidesi

10 tane



Salatalık fidesi

8 tane



Domates fidesi

20 tane

3. HARF GRUBU ETKİNLİĞİ


Aşağıdaki görsellerin ismini altlarına yazınız.



tabak



.....



.....



.....



.....



.....



.....



.....



.....



.....



.....



.....



.....



.....



.....



.....



.....



.....



.....

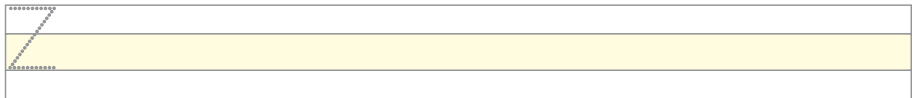
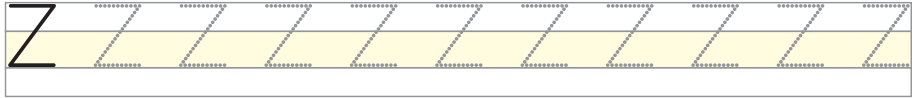
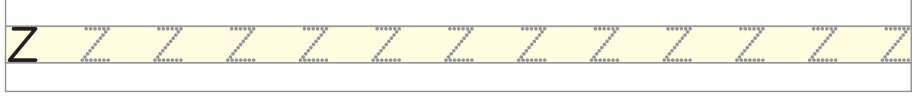
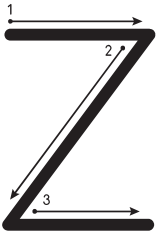
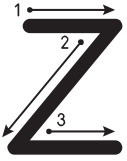


.....



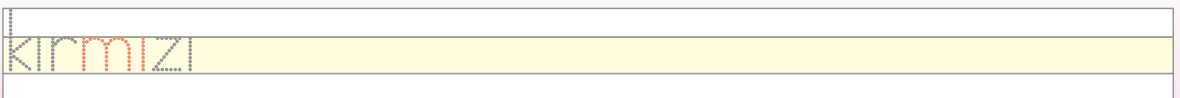
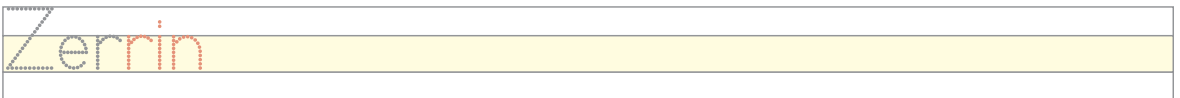
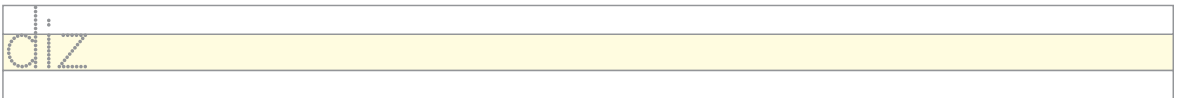
1. ETKİNLİK

Yazılış yönlerine dikkat ederek aşağıdaki “z”, “Z” harflerini yazınız.



2. ETKİNLİK

Aşağıdaki hece ve kelimeleri okuyunuz ve yazınız.





3. ETKİNLİK

Aşağıda karışık şekilde verilen kelimelerle örnekteki gibi anlamlı ve kurallı cümleler yazınız.

sekiz / kilo / Zerrin / sattı / kiraz

Zerrin sekiz kilo kiraz sattı.

kırmızı / ablam / ördü / kazak

Suzan / gitti / müzeye

zeytin / yedi / sekiz / Zeki / tane



4. ETKİNLİK

Aşağıdaki metni okuyunuz içinde “z” sesinin geçtiği kelimelerin altını çiziniz.

ZEYTİN

Zeynel Bey ile kızı zeytinlikteler. Zeynel Bey zeytinleri silkeledi. Kızı Zerrin yerdeki zeytinleri seleslere doldurdu. Birlikte zeytinleri kırdılar. Sonra suya attılar. Salamura zeytin kurdular. Zeytinler olduktan sonra sattılar.



5. ETKİNLİK

Aşağıdaki çıkarma işlemlerini yapınız.

$$\begin{array}{r} 1/ \quad 46 \\ - \quad 22 \\ \hline \dots\dots\dots \end{array}$$

$$\begin{array}{r} 2/ \quad 96 \\ - \quad 23 \\ \hline \dots\dots\dots \end{array}$$

$$\begin{array}{r} 3/ \quad 114 \\ - \quad 12 \\ \hline \dots\dots\dots \end{array}$$

$$\begin{array}{r} 4/ \quad 255 \\ - \quad 43 \\ \hline \dots\dots\dots \end{array}$$

$$\begin{array}{r} 5/ \quad 896 \\ - \quad 263 \\ \hline \dots\dots\dots \end{array}$$

$$\begin{array}{r} 6/ \quad 948 \\ - \quad 822 \\ \hline \dots\dots\dots \end{array}$$

$$7/ \quad 4400 - 200 = \dots\dots\dots$$

$$10/ \quad 2589 - 1352 = \dots\dots\dots$$

$$8/ \quad 5000 - 3000 = \dots\dots\dots$$

$$11/ \quad 4960 - 4360 = \dots\dots\dots$$

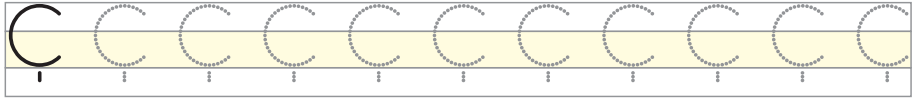
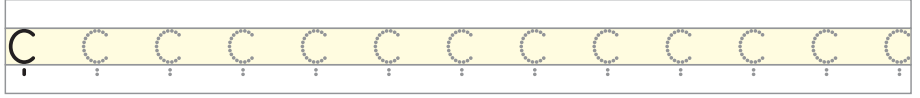
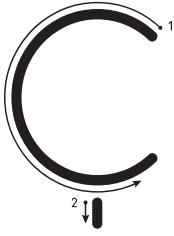
$$9/ \quad 6023 - 5011 = \dots\dots\dots$$

$$12/ \quad 7586 - 3241 = \dots\dots\dots$$



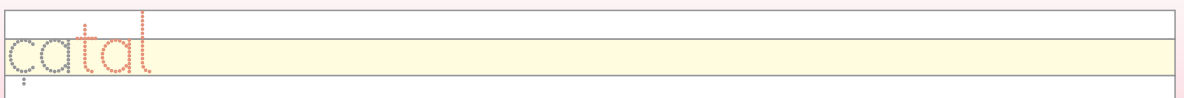
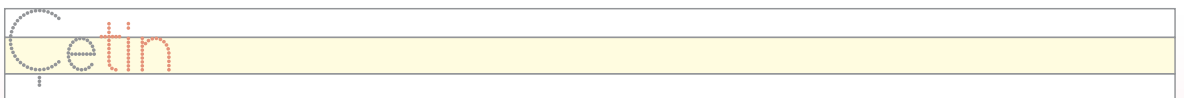
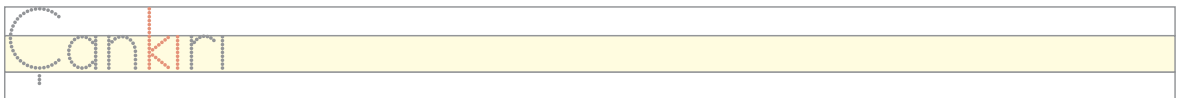
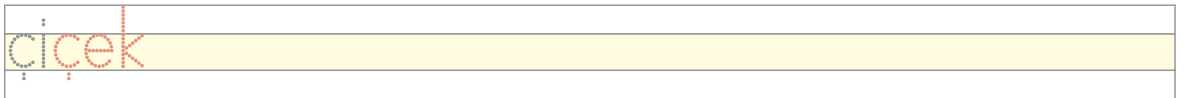
1. ETKİNLİK

Yazılış yönlerine dikkat ederek aşağıdaki "ç", "Ç" harflerini yazınız.



2. ETKİNLİK

Aşağıdaki hece ve kelimeleri okuyunuz ve yazınız.





3. ETKİNLİK

Aşağıda karışık şekilde verilen kelimelerle örnekteki gibi anlamlı ve kurallı cümleler yazınız.

içti / Babam / çorba

Babam çorba içti.

çatal / aldı / bıçak / Seçil / satın

çiçek / annesine / Selma / aldı

Ayça / çıktı / uzun / yola



4. ETKİNLİK

Aşağıdaki "Çelik Çomak" metninde "ç" ve "k" seslerinin birlikte kullanıldığı kelimelerden üç tanesini bulup yazınız.

ÇELİK ÇOMAK

Çilek, çekirdek aldık.
Çayır çimene daldık.
Çadır çadır dolandık.
Çay içtik oyalandık.
Çelik çomak oynadık.
Oyuna doyamadık.



5. ETKİNLİK

Aşağıdaki çıkarma işlemlerini yapınız.

$$\begin{array}{r} 1 \\ 20 \\ - 11 \\ \hline \end{array}$$

.....

$$\begin{array}{r} 2 \\ 38 \\ - 19 \\ \hline \end{array}$$

.....

$$\begin{array}{r} 3 \\ 574 \\ - 365 \\ \hline \end{array}$$

.....

$$\begin{array}{r} 4 \\ 236 \\ - 158 \\ \hline \end{array}$$

.....

$$\begin{array}{r} 5 \\ 1286 \\ - 137 \\ \hline \end{array}$$

.....

$$\begin{array}{r} 6 \\ 5630 \\ - 458 \\ \hline \end{array}$$

.....

$$\begin{array}{r} 7 \\ 3645 \\ - 3225 \\ \hline \end{array}$$

.....

$$\begin{array}{r} 8 \\ 8601 \\ - 2563 \\ \hline \end{array}$$

.....




$$\begin{array}{r} 9 \\ 9900 \\ - 900 \\ \hline \end{array}$$

.....



1. ETKİNLİK

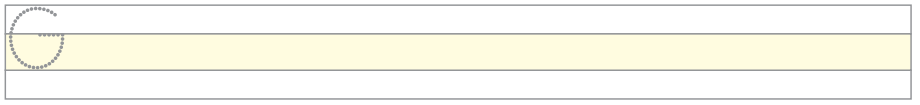
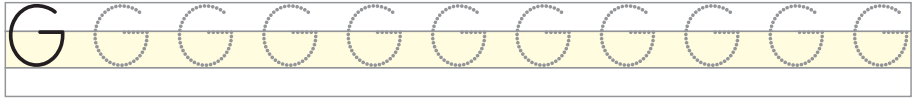
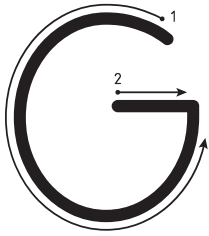
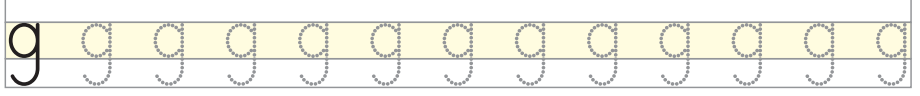
Aşağıdaki görseller içinden kazaya neden olabilecek durumları gösteren görsellerin altındaki kutucuğu (X) işaretleyiniz.





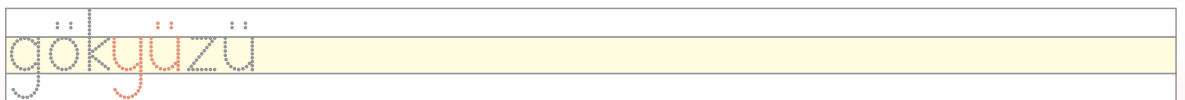
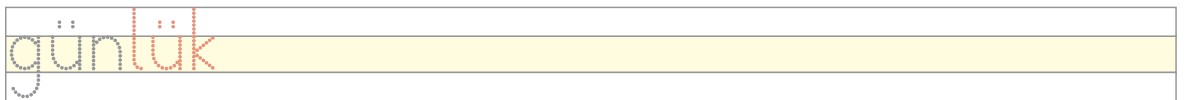
2. ETKİNLİK

Yazılış yönlerine dikkat ederek aşağıdaki "g", "G" harflerini yazınız.



3. ETKİNLİK

Aşağıdaki hece ve kelimeleri okuyunuz ve yazınız.





4. ETKİNLİK

Aşağıda karışık şekilde verilen kelimelerle örnekteki gibi anlamlı ve kurallı cümleler yazınız.

günlük / Gani / aldı / gazete

Gani günlük gazete aldı.

gitar / Gürkan'a / çaldım

Giresun'a / Gizem / gitti

gözlük / gittim / almaya / bugün



5. ETKİNLİK

güç irak göz Giresun'a gazoz gelen gönülden

Aşağıdaki cümlelerde boş bırakılan yerlere yukarıdaki kelimelerden uygun olanları yazınız.

Geç olsun da olmasın.

Yazın tatile gittik.

Gizem limonlu aldı.

Özge doktoruna gitti.

..... gideni aratır.

Gözden olan de

irak olur.



6. ETKİNLİK

Yazılış yönlerine dikkat ederek aşağıdaki “ş”, “Ş” harflerini yazınız.



ş	ş	ş	ş	ş	ş	ş	ş	ş	ş	ş	ş	ş
ş												
Ş	Ş	Ş	Ş	Ş	Ş	Ş	Ş	Ş	Ş	Ş	Ş	Ş
Ş												



7. ETKİNLİK

Aşağıdaki hece ve kelimeleri okuyunuz ve yazınız.

şan	
şanlı	
şubat	
Şirnak	
şanslı	
şimşak	



8. ETKİNLİK

Aşağıda karışık şekilde verilen kelimelerle örnekteki gibi anlamlı ve kurallı cümleler yazınız.

şaşkın / baktı / Şakir / şaşkın

Şakir şaşkın şaşkın baktı.

Şenay / ördü / kaşkol

akşam / açık / ışıklar / kalmış

kışlık / babam / odun / aldı

şeker / Yaşar / attı / çaya

bugün / Gamze / okudu / gazete

ile / Şeyma / şiir / Şenol / okudu



9. ETKİNLİK

Aşağıdaki çıkarma işlemlerini zihinden yapınız, sonuçları örnekteki gibi eşleştiriniz.

$45 - 21$

100

$150 - 90$

17

$50 - 30$

100

$34 - 14$

24

$140 - 40$

60

$82 - 22$

46

$110 - 10$

20

$74 - 24$

40

$56 - 10$

28

$70 - 53$

60

$45 - 5$

20

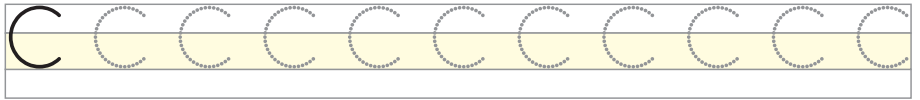
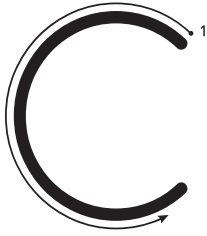

$42 - 14$

50



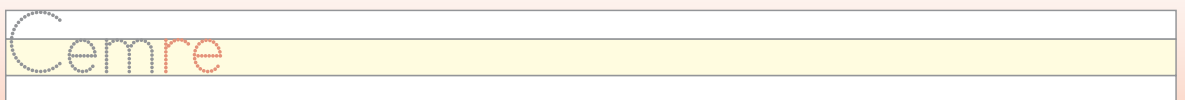
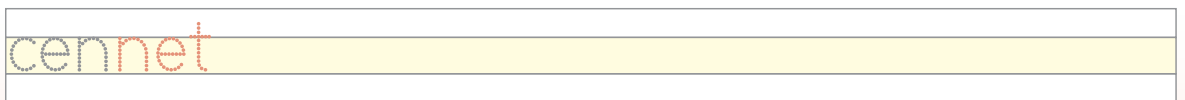
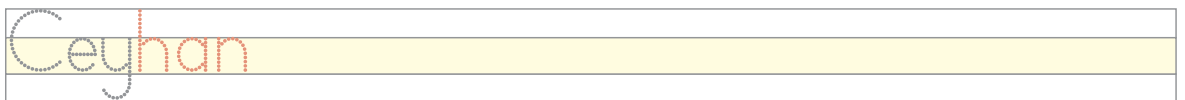
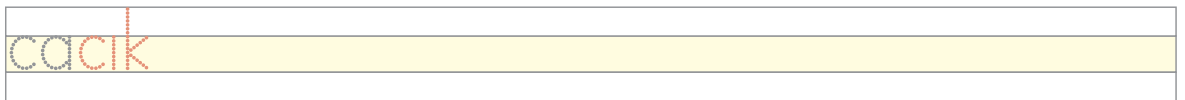
1. ETKİNLİK

Yazılış yönlerine dikkat ederek aşağıdaki "c", "C" harflerini yazınız.



2. ETKİNLİK

Aşağıdaki hece ve kelimeleri okuyunuz ve yazınız.





3. ETKİNLİK

Aşağıdaki kelimeleri kullanarak üç kelimelik, dört kelimelik ve beş kelimelik anlamlı ve kurallı cümleler yazınız.

eczaneden

Ece

aldı

ilaç

bugün

İlaç aldı.



4. ETKİNLİK

Aşağıdaki metni okuyunuz. Metinde içerisinde "c" ve "n" seslerinin birlikte kullanıldığı kelimeleri bulup altını çiziniz.

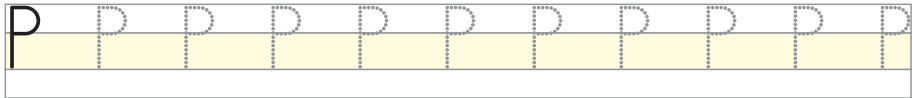
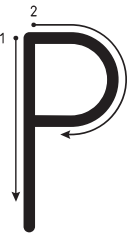
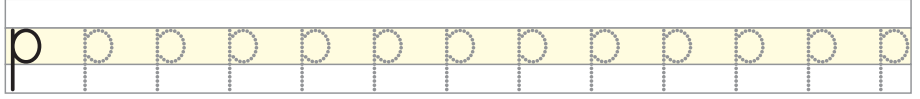
SEL

Canan, komşu kasabadaki seli bu gece duydu. Canı çok sıkıldı. Nasıl yardımcı olabilirim diye düşündü. Sabah olunca arkadaşlarına söyledi. Acil yardım istedi. Tüm arkadaşları yardımcı oldular. Birlikte yiyecek, giyecek ve battaniye gibi malzemeleri temin ettiler. Kasabaya götürdüler. Canla başla yardımcı oldular. Selin yaralarını, dayanışma ile sardılar.



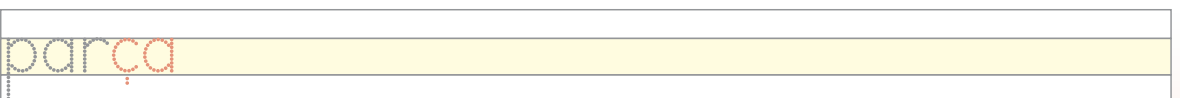
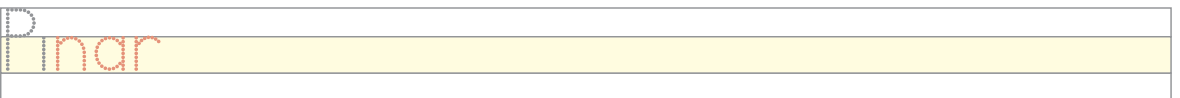
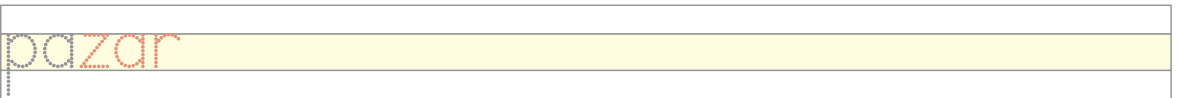
5. ETKİNLİK

Yazılış yönlerine dikkat ederek aşağıdaki "p" , "P" harflerini yazınız.



6. ETKİNLİK

Aşağıdaki hece ve kelimeleri okuyunuz ve yazınız.





7. ETKİNLİK

Aşağıda karışık şekilde verilen kelimelerle örnekteki gibi anlamlı ve kurallı cümleler yazınız.

perşembe

pide

yedik

peynirli

günü

Pide yedik.



8. ETKİNLİK

Aşağıdaki metni okuyunuz metinde "p" ve "r" seslerinin birlikte kullanıldığı kelimeleri bulup yuvarlak içine alınız.

PİKNİK

Pazar günleri İpek ablamın mis gibi pidelerinin kokusu ile uyanırız. Ailece pideleri yeriz. Bazı pazarlar, piknik yaparız. Piknikte çocuklarla en çok istop oynarız. Bu pazar gidemedik. Ben çok üzüldüm. Ablam, "Üzülme sana bir sürprizim olacak." dedi. Ablamın elmalı pasta sürprizi ile çok mutlu oldum. Akşam çayla birlikte pastayı yedik.



9. ETKİNLİK

Aşağıdaki işlemlerin sonucunu tahmin ediniz. Gerçek sonuç ile tahmininizi karşılaştırınız.

28 - 13

Tahmini Sonuç	Gerçek Sonuç	Fark
..... - ----- - ----- - -----

63 - 27

Tahmini Sonuç	Gerçek Sonuç	Fark
..... - ----- - ----- - -----

150 - 55

Tahmini Sonuç	Gerçek Sonuç	Fark
..... - ----- - ----- - -----

4. HARF GRUBU ETKİNLİĞİ

Aşağıdaki kelimeleri tablo içerisinde bulup örnekteki gibi işaretleyiniz.


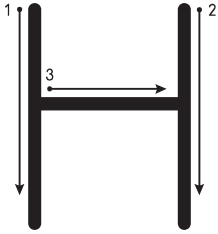
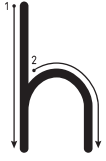
AŞI - BACA - ÇAY - ELMA - GAR - GAZ - GÖMLEK - KARGA -
KAŞIK - MASA - MATARA - MUM - PIRASA - SIRA - SOBA

P	K	S	O	B	A	C	E	Ç
Y	G	Ö	M	L	E	K	İ	A
M	A	T	A	R	A	A	O	Y
E	R	İ	S	A	Z	R	Ü	Y
B	A	C	A	Ö	İ	G	S	P
Z	N	S	R	Ş	G	A	Z	B
M	E	L	M	A	K	M	U	M
A	P	K	A	Ş	İ	K	L	C
S	G	M	S	İ	R	A	K	S
A	P	İ	R	A	S	A	N	A



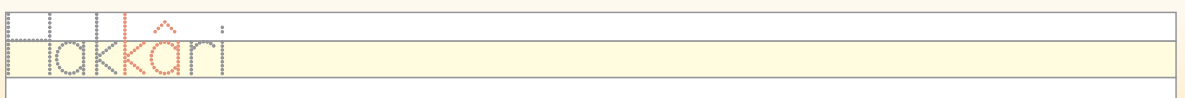
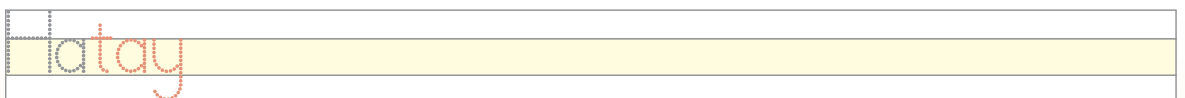
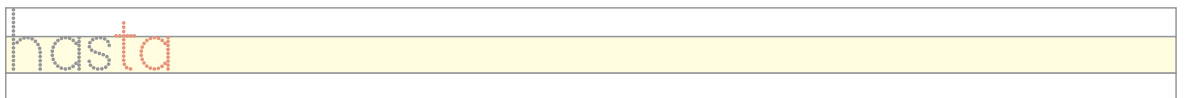
1. ETKİNLİK

Yazılış yönlerine dikkat ederek aşağıdaki "h", "H" harflerini yazınız.



2. ETKİNLİK

Aşağıdaki hece ve kelimeleri okuyunuz ve yazınız.





5. ETKİNLİK

Aşağıdaki problemleri çözünüz.

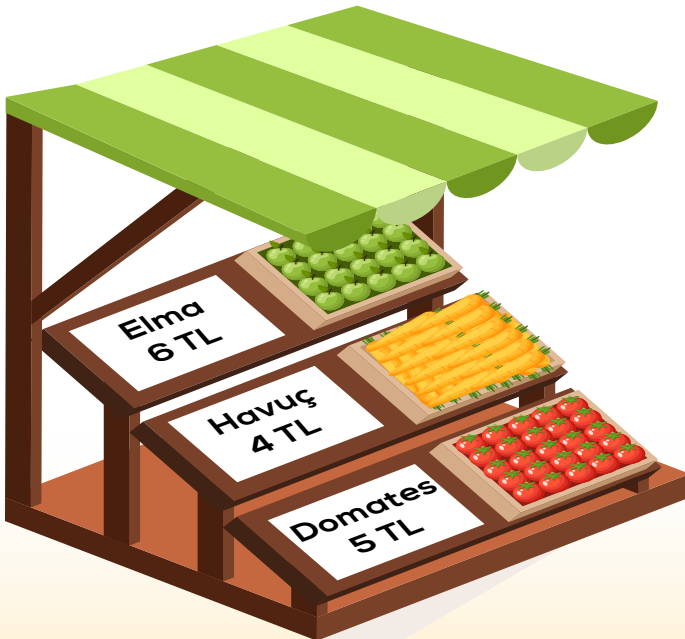
1/ Hasan Bey 40 yaşındadır. Kardeşi ise Hasan Bey'den 4 yaş küçüktür. Buna göre Hasan Bey ile kardeşinin yaşları toplamı kaçtır?

2/ Ayşe Hanım züccacıyeden 6 adet yemek tabağı ile 12 adet çorba tabağı aldı. Eve geldiğinde, paketleri açarken tabakların 3 adedi kırıldı. Ayşe Hanım'ın geriye kaç tabağı kalmıştır?



6. ETKİNLİK

Aşağıdaki verilere göre bir problem kurunuz ve çözünüz.





3. ETKİNLİK

Aşağıdaki kelimeleri kullanarak dört kelimelik, beş kelimelik ve altı kelimelik anlamlı ve kurallı cümleler yazınız.

cezve / eve / kahve / aldı / Vildan / ve

Vildan cezve aldı.



4. ETKİNLİK

Aşağıdaki deyimleri okuyunuz ve yazınız.

Vebali boynuna olmak.

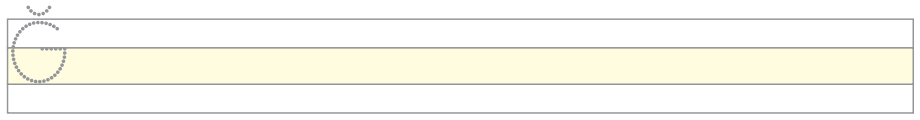
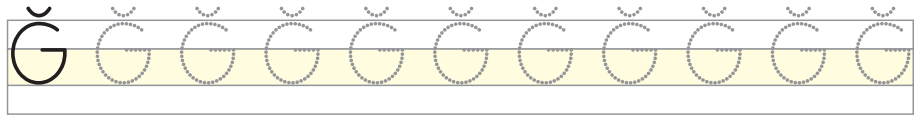
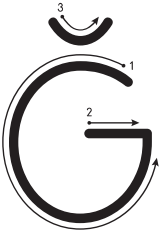
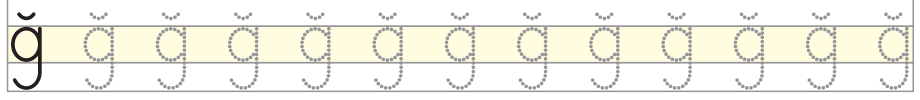
Viraneye çevirmek.

Velveleye vermek.



5. ETKİNLİK

Yazılış yönlerine dikkat ederek aşağıdaki "ğ", "Ğ" harflerini yazınız.



6. ETKİNLİK

Aşağıdaki hece ve kelimeleri okuyunuz ve yazınız.





7. ETKİNLİK

Aşağıdaki kelimeleri kullanarak üç kelimelik, dört kelimelik ve beş kelimelik anlamlı ve kurallı cümleler yazınız.

sarımsak / doğradı / Çiğdem / soğan / yemeğe

Soğan doğradı.



8. ETKİNLİK

Aşağıdaki sözleri okuyunuz ve yazınız.

Doğruluk ve dürüstlük çok yüce bir değerdir.

Ayağına batan dikenler aradığın gülün habercisidir. (Mevlana)



9. ETKİNLİK

A) Aşağıdaki çarpma işlemlerini yapınız.

$$\begin{array}{r} 1 \quad 3 \\ \times \quad 2 \\ \hline \end{array}$$

.....

$$\begin{array}{r} 2 \quad 6 \\ \times \quad 3 \\ \hline \end{array}$$

.....

$$\begin{array}{r} 3 \quad 5 \\ \times \quad 5 \\ \hline \end{array}$$

.....

$$\begin{array}{r} 4 \quad 4 \\ \times \quad 8 \\ \hline \end{array}$$

.....

$$\begin{array}{r} 5 \quad 20 \\ \times \quad 4 \\ \hline \end{array}$$

.....

$$\begin{array}{r} 6 \quad 30 \\ \times \quad 5 \\ \hline \end{array}$$

.....

$$\begin{array}{r} 7 \quad 12 \\ \times \quad 4 \\ \hline \end{array}$$

.....

$$\begin{array}{r} 8 \quad 30 \\ \times \quad 2 \\ \hline \end{array}$$

.....

$$\begin{array}{r} 9 \quad 21 \\ \times \quad 6 \\ \hline \end{array}$$

.....

B) Aşağıdaki boşlukları örnekteki gibi doldurunuz.

$$4 + 4 + 4 + 4 + 4 + 4 = 6 \times 4 = 24$$

$$1 \quad 5 + 5 + 5 = \dots \times \dots = \dots$$

$$3 \quad 6 + 6 + 6 + 6 = \dots \times \dots = \dots$$

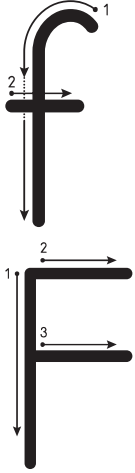
$$2 \quad 2 + 2 + 2 + 2 + 2 = \dots \times \dots = \dots$$

$$4 \quad 3 + 3 + 3 + 3 = \dots \times \dots = \dots$$



1. ETKİNLİK

Yazılış yönlerine dikkat ederek aşağıdaki "f", "F" harflerini yazınız.



f	f	f	f	f	f	f	f	f	f	f	f
f											
F	F	F	F	F	F	F	F	F	F	F	F
F											



2. ETKİNLİK

Aşağıdaki hece ve kelimeleri okuyunuz ve yazınız.

fiş											
sefa											
Ferda											
telefon											
fotoğraf											
mağfiret											



3. ETKİNLİK

Aşağıdaki kelimeleri kullanarak dört kelimelik, beş kelimelik ve altı kelimelik anlamlı ve kurallı cümleler yazınız.

fazla / mesai / Ferhat / yaptı / bu / hafta

Ferhat mesai yaptı.



4. ETKİNLİK

Aşağıda karışık olarak verilmiş hecelerden kelime oluşturunuz ve yazınız.

fa / ve

lık / fe / da / kâr

fa / let / zi



5. ETKİNLİK

Aşağıdaki çarpma işlemlerini yapınız.

$$\begin{array}{r} 1 \\ \times 10 \\ \hline \end{array}$$

.....

$$\begin{array}{r} 2 \\ \times 6 \\ \hline \end{array}$$

.....

$$\begin{array}{r} 3 \\ \times 2 \\ \hline \end{array}$$

.....

$$\begin{array}{r} 4 \\ \times 6 \\ \hline \end{array}$$

.....

$$\begin{array}{r} 5 \\ \times 20 \\ \hline \end{array}$$

.....

$$\begin{array}{r} 6 \\ \times 3 \\ \hline \end{array}$$

.....

$$\begin{array}{r} 7 \\ \times 10 \\ \hline \end{array}$$

.....

$$\begin{array}{r} 8 \\ \times 45 \\ \hline \end{array}$$

.....

$$\begin{array}{r} 9 \\ \times 10 \\ \hline \end{array}$$

.....

$$10 \quad 12 \times 3 = \dots\dots\dots$$

$$14 \quad 93 \times 10 = \dots\dots\dots$$

$$11 \quad 44 \times 2 = \dots\dots\dots$$

$$15 \quad 100 \times 10 = \dots\dots\dots$$

$$12 \quad 30 \times 10 = \dots\dots\dots$$

$$16 \quad 150 \times 10 = \dots\dots\dots$$

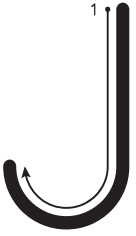
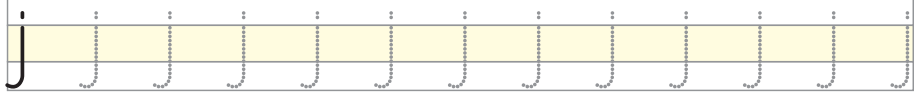
$$13 \quad 50 \times 10 = \dots\dots\dots$$

$$17 \quad 250 \times 10 = \dots\dots\dots$$



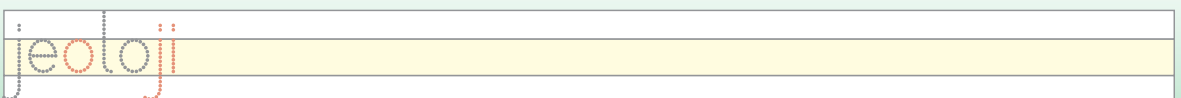
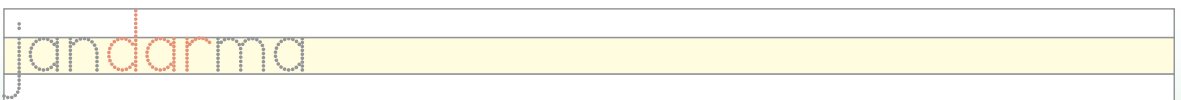
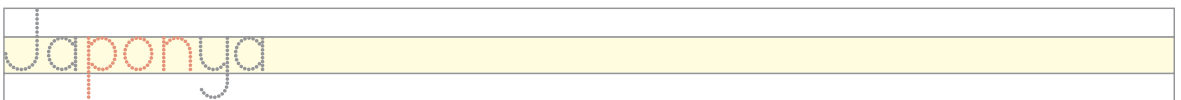
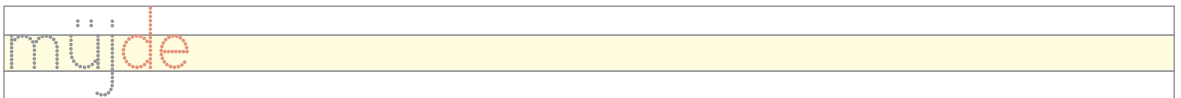
1. ETKİNLİK

Yazılış yönlerine dikkat ederek aşağıdaki "j", "J" harflerini yazınız.



2. ETKİNLİK

Aşağıdaki hece ve kelimeleri okuyunuz ve yazınız.





3. ETKİNLİK

Öğretmenin söylediği cümleleri verilen boşluklara yazınız.



4. ETKİNLİK

Aşağıdaki problemleri çözünüz.



Çiftçi bahçesine biber fidesi dikmek için pazardan 7 bağ fide satın aldı. Her bir bağda 16 fide olduğuna göre çiftçi toplam kaç tane biber fidesi almıştır?



Hatice Hanım kutudaki sütleri 8 çocuğa ikiye ikiye paylaştığında geriye 3 tane süt kalmıştır. Paylaştırmadan önce kutuda toplam kaç süt vardı?

5. HARF GRUBU ETKİNLİĞİ

Aşağıdaki bulmacayı çözünüz.

Yukarıdan Aşağıya

2. Kendini karşısındakinin yerine koyarak düşünme.
4. Aynı cinsten onluk bir küme.
6. İçki, sigara ve her türlü uyuşturucu maddelere karşı olanların kurduğu dernek.
9. Ulaşım yollarında bulunan taşıt ve yayaların tümü, gidiş geliş.
11. Yürüyerek giden kimse.
12. Bütün bir şeyin ayrıldığı iki eşit parçadan her biri.

Soldan Sağa

1. Aynı cinsten bir nesnenin on ikilik takımı.
3. Yer sarsıntısı, hareket, zelzele.
5. Yangın söndürme kuruluşu.
7. Sürekli bir biçimde yağan yağmurdan ya da eriyen karlardan oluşan, geçtiği yerlere zarar veren taşkın su.
8. Peşin hüküm.
10. Dörtte bir.





1. ETKİNLİK

Aşağıdaki cümleleri okuyunuz ve yazınız.

Aile güven ve huzurun olduğu yerdir.

Aile sevginin en güçlü hâlidir.

Aile sevgi ve saygının öğretildiği ilk yerdir.



2. ETKİNLİK

Aşağıdaki metinde "()" ile gösterilen yerlere uygun noktalama işaretlerini yerleştiriniz.

Erdem() Oğuz ve Mehmet çok heyecanlıydı() Birazdan üniversite sınav sonuçları açıklanacaktı()



3. ETKİNLİK

Aşağıdaki cümlelerden anlamlı bir metin oluşturunuz ve yazınız. Oluşturduğunuz metne bir başlık yazınız.

Eve geldi.

Sebze ve meyveleri dolaba yerleştirdi.

Akşam yemeği için taze fasulye pişirdi.

Fatma pazara gitti.

Bol bol meyve ve sebze aldı.



4. ETKİNLİK

Aşağıdaki bölme işlemlerini yapınız.

$$1/66 \div 3 = \dots\dots\dots$$

$$2/42 \div 2 = \dots\dots\dots$$

$$3/30 \div 2 = \dots\dots\dots$$

$$4/ \begin{array}{r} 12 \overline{) 4} \\ \underline{\quad} \\ \dots\dots \\ \underline{\quad} \\ \dots\dots \end{array}$$

$$5/ \begin{array}{r} 15 \overline{) 3} \\ \underline{\quad} \\ \dots\dots \\ \underline{\quad} \\ \dots\dots \end{array}$$

$$6/ \begin{array}{r} 25 \overline{) 6} \\ \underline{\quad} \\ \dots\dots \\ \underline{\quad} \\ \dots\dots \end{array}$$

1. ETKİNLİK

Aşağıdaki trafik levhaları ile anlamlarını örnekteki gibi eşleştiriniz.



OKUL GEÇİDİ

YAYA GEÇİDİ



HASTANE

DURAK

ENGELLİ ARAÇ
PARK YERİ

YAYA GİREMEZ





2. ETKİNLİK

Aşağıdaki cümlelerde yazım ve noktalama yanlışlarını bulup altına doğru-
sunu yazınız.

trafik kurallarına uymak hayat kurtarır.

Nevin konya otobüsüne bindi.

Ayşe diyarbakır kalesine yakın oturuyor.

Alinin babası yarın istanbula gidecek.

bahçeden patlıcan kabak pazı barbunya ve biber topladık.



3. ETKİNLİK

Karşıdan karşıya geçerken nelere dikkat etmeliyiz? Kısaca yazınız.



4. ETKİNLİK

Aşağıdaki problemleri çözünüz.

1 Kazak üretimi yapan bir atölyede ilk vardiyada 36, ikinci vardiyada 48 yumak ip kullanılmıştır. Her bir kazak için 4 yumak ip kullanıldığına göre iki vardiyada toplam kaç kazak üretilmiştir?

2 Halk eğitimi merkezinde 3 öğretmenden her biri günde 30 maske üretmektedir. Üretilen maskeler, 10'arlı gruplar şeklinde paketlenmektedir. Buna göre günde kaç paket maske üretilmektedir?



1. ETKİNLİK

Tutumluluk ve israfı ilgili aşağıdaki sözleri yazınız.

Ey Âdemoğulları! Her namaz kılacağınızda güzelce giyinin, yiyin, için fakat israf etmeyin. Çünkü Allah israf edenleri sevmez.

(A'raf Suresi 31. Ayet)

İktisat, az şeyi çoğaltır; israf çok şeyi azaltır.

Hz. Ali (R.A)



2. ETKİNLİK

Su ve elektrik tasarrufu için evinizde alabileceğiniz üç önlemi aşağıya yazınız.

1. _____

2. _____

3. _____



3. ETKİNLİK

Aşağıdaki metinde parantezlerin içine uygun noktalama (. / , /- /? / !) işaretlerini koyunuz.

ÜNAL

Ünal hafta sonu teyzesine gezmeye gitti() Kuzenleri; Ahmet() Hale, Seher ve Ali ile hasret giderdi. Bahçede hep beraber hopladılar, zıpladılar() Ünal akşam hasta oldu() Teyzesi ile hemen hastaneye gittiler. Hemşire Ünal'ın ateşini ölçtü. Doktor Ünal'ı muayene etti. Teyzesi doktora;

()Ünal'ın nesi var()

Doktor:

()Biraz üşütmüş.


Teyzesi:

()Eyvah() Ben böyle olacağını biliyordum()



4. ETKİNLİK

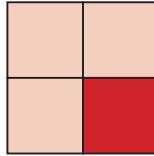
Aşağıda verilenlerin altına bütün, yarım ve çeyrek ifadelerinden uygun olanı yazınız.



.....



.....



.....



.....



.....

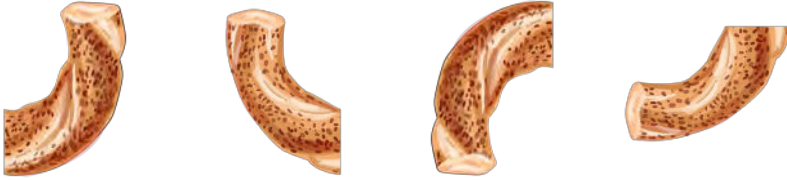


.....



5. ETKİNLİK

Görselleri inceleyiniz. Boşluklara **bütün**, **yarım** ve **çeyrek** ifadelerinden uygun olanı yazınız.



4 simit, 1 simit eder.



1 elma, 2 elma eder.



2 portakal, 1 portakal eder.



6. ETKİNLİK

Aşağıdaki görselleri inceleyiniz ve altındaki boşluğa kaç çeyrek olduklarını yazınız.



...14 çeyrek...



.....



.....



1. ETKİNLİK

Bankadan arandığınızda hangi bilgi sizden kesinlikle istenmez?

- A. Anne kızlık soyadı
- B. Banka kartı şifresi
- C. Ev veya iş adresi



2. ETKİNLİK

Aşağıdaki kelimeleri kullanarak anlamlı ve kurallı birer cümle yazınız.

Teknoloji

Mesaj



3. ETKİNLİK


Aşağıdaki ifadeleri okuyunuz. Doğru olanların başına "D", yanlış olanların başına "Y" harfi yazınız.

- () "Hediye çeki kazandınız." diyerek para isteyen şahıslara inanmayın.
- () İnternette güvenli alışveriş yapabileceğimiz siteler vardır.
- () Banka kartı şifreniz doğum tarihi gibi tahmin edilebilecek rakamlardan oluşmalıdır.




4. ETKİNLİK


Aşağıdaki geometrik şekillerle oluşturulan kesir modellerinin kesir gösterimlerini yazınız.




$$\frac{1}{4}$$




$$\frac{\dots\dots}{\dots\dots}$$



$$\frac{\dots\dots}{\dots\dots}$$



$$\frac{\dots\dots}{\dots\dots}$$



$$\frac{\dots\dots}{\dots\dots}$$

Aşağıdaki kesir gösterimleri ile meyveleri eşleştiriniz.

$$\frac{1}{4}$$

$$\frac{1}{2}$$

$$\frac{1}{1}$$





1. ETKİNLİK

Millî birlik ve beraberliği en yoğun olarak hissettiğiniz günlere örnekler veriniz.



2. ETKİNLİK

Aşağıdaki "Çanakkale Şehitlerine" şiirini okuyunuz ve yazınız.

ÇANAKKALE ŞEHİTLERİNE

Ey, bu topraklar için toprağa düşmüş asker!
Gökten ecdâd inerek öpse o pâk alnı değer.
Ne büyüksün ki kanın kurtarıyor tevhidi...
Bedr'in arslanları ancak, bu kadar şanlı idi.
Sana dar gelmiyecek makberi kimler kazsın?
'Gömelim gel seni tarihe' desem, sığmazsın.

Mehmet Âkif Ersoy



3. ETKİNLİK

Aşağıdaki kesirlerden bütünü ifade edenleri daire içine alınız.

$$\frac{5}{5}$$

$$\frac{3}{6}$$

$$\frac{8}{10}$$

$$\frac{4}{4}$$

$$\frac{3}{3}$$

$$\frac{4}{6}$$

Aşağıdaki yağdanlıkların dolu olan kısımlarını birim kesir olarak yazınız.



.....



.....



.....



.....



1. ETKİNLİK

Aşağıda karışık şekilde verilen kelimelerle anlamlı ve kurallı cümleler yazınız.

olduğu / sevdiklerinizin / yanınızda / nice / dilerim / bayramlar

29 Ekim / Cumhuriyetin / tarihtir / ilan / edildiği / 1923

ve / birlik / beraberlik / milleti / kılar / güçlü

Atatürk'tür / kurucusu / Cumhuriyet'inin / Türkiye

küçüklerin / ziyaret / bayramlar / büyükleri / günlerdir / ettiği



2. ETKİNLİK

Millî bayramlar ile kutlandıkları günleri örnekteki gibi eşleştiriniz.

Zafer Bayramı	23 Nisan
Ulusal Egemenlik ve Çocuk Bayramı	29 Ekim
Atatürk'ü Anma ve Gençlik ve Spor Bayramı	30 Ağustos
Cumhuriyet Bayramı	19 Mayıs



3. ETKİNLİK

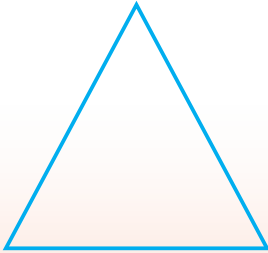
Aşağıdaki geometrik şekillerin adlarını altlarına yazınız.




.....



.....



.....



.....



1. ETKİNLİK

Türkiye Büyük Millet Meclisi hangi tarihte açılmıştır? Yazınız.

İstiklâl Marşı'nın yazarı kimdir? Yazınız.



2. ETKİNLİK

Aşağıdaki cümlelerde kelimelerin gerekli yerlerine kesme işareti koyarak örnekteki gibi cümleler yazınız.

İstiklâl Marşının sahibi Türk Milletidir.

İstiklâl Marşının sahibi Türk Milleti'dir.

Ankarada Anıtkabire gittim.

Mehmetin yüzü güldü.

Malatyanın kayısı meşhurdur.



4. ETKİNLİK

Aşağıdaki görsellerden metre ile ölçülebilenlerin altına "m" santimetre ile ölçülebilenlerin altına "cm" yazınız.



.....



.....



.....



.....

Aşağıdaki cümlelerde boş bırakılan yerlere uygun ölçme araçlarının ismini yazınız.

Kitabın boyunu ile ölçeriz.

Boyumuzu ile ölçeriz.

Terzi ölçü alırken kullanır.

Kapının yüksekliğini ile ölçeriz.



1. ETKİNLİK

Aşağıdaki kelimeleri kullanarak birer cümle yazınız.

Bayrak

Atatürk

İstiklâl Marşı



2. ETKİNLİK

“Atatürk ve Bayrak” metninin ana fikrini kısaca yazınız.



3. ETKİNLİK

1 Masanızın uzun kenarını ölçünüz, metre ve santimetre olarak yazınız.

2 Yeşim Hanım kapının uzun kenarını 210 cm olarak ölçüyor. Kapının uzun kenarını metre ve santimetre olarak yazınız.

3 Boyunuzun uzunluğunu metre ve santimetre olarak yazınız.

4 650 santimetreyi, metre ve santimetre olarak yazınız.



4. ETKİNLİK

Aşağıdaki boşlukları örnekteki gibi doldurunuz.

$$200 \text{ cm} = \dots\dots\dots 2 \dots\dots\dots \text{ m} \qquad 7 \text{ m} = \dots\dots\dots \text{ cm}$$

$$680 \text{ cm} = \dots\dots\dots \text{ m} \dots\dots\dots \text{ cm} \qquad 150 \text{ cm} = \dots\dots\dots \text{ m} \dots\dots\dots \text{ cm}$$

$$9 \text{ m} = \dots\dots\dots \text{ cm} \qquad 465 \text{ cm} = \dots\dots\dots \text{ m} \dots\dots\dots \text{ cm}$$

$$530 \text{ cm} = \dots\dots\dots \text{ m} \dots\dots\dots \text{ cm} \qquad 3 \text{ m} = \dots\dots\dots \text{ cm}$$



1. ETKİNLİK

Sizce alkol bağımlılığın nedenleri neler olabilir? Yazınız.



2. ETKİNLİK

Aşağıdaki ifadelerden doğru olanların başına "D" yanlış olanların başına "Y" yazınız.

- () Alkol bağımlılığı tedavi edilemez.
- () Sigara kullanım alanlarına sınırlandırma getirilmelidir.
- () Çocukların yanında alkol ve sigara kullanılmamalıdır.
- () Sigara sadece içene zarar verir.



3. ETKİNLİK

Aşağıdaki boşlukları doldurunuz.

$$3 \text{ km} = \dots\dots\dots \text{ m}$$

$$4 \text{ km} = \dots\dots\dots \text{ m}$$

$$7000 \text{ m} = \dots\dots\dots \text{ km}$$

$$1000 \text{ m} = \dots\dots\dots \text{ km}$$

$$3500 \text{ m} = \dots\dots \text{ km} \dots\dots \text{ m}$$

$$8200 \text{ m} = \dots\dots \text{ km} \dots\dots \text{ m}$$



1. ETKİNLİK

Aşağıdaki soruları cevaplayınız.

İpek Hanım alışverişe ne için çıkmıştı? Yazınız.

İpek Hanım neden istediği makineyi alamadı? Yazınız.



2. ETKİNLİK

“Çamaşır Makinesi” metninin ana fikri nedir? Yazınız.



3. ETKİNLİK

Aşağıdaki problemleri çözünüz.

1

24 metre kumaşın yarısı kaç metredir?

2

3 kilometre olan yolun 500 metresi yüründüğünde geriye kaç metre yol kalır?

3

Belediye işçileri 6500 metrelik yolun 2400 metresini asfaltlamıştır. Asfaltlanmayan kaç metre yol kalmıştır?

4

60 kilometrenin iki katı kaç kilometredir?



1. ETKİNLİK

Aşağıdaki olaya göre örnek şikâyet dilekçesini doldurunuz.

Olay: Satın aldığınız cep telefonu arızalandı. Firma ilgilenmiyor.

..... TÜKETİCİ SORUNLARI
İLÇE HAKEM HEYETİ BAŞKANLIĞINA

ŞİKAYET EDEN:

T.C. KİMLİK NO:

TEL NO:

ADRES:

KARŞI TARAF:

ADRES:

KONUSU:

AÇIKLAMALAR:

SONUÇ VE İSTEK:

İMZA

..... /..... /.....


2. ETKİNLİK

Tüketici olarak bir ürün satın alırken nelere dikkat edilmelidir? Üç tanesini yazınız.

3. ETKİNLİK

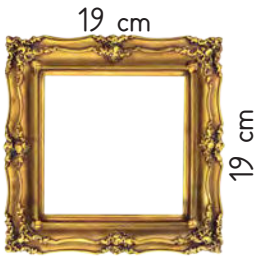
Aşağıdaki nesnelerin çevre uzunluklarını hesaplayınız.

1



Verilen şekildeki üçgenlerin kenar uzunlukları birbirine eşittir. Bir kenar uzunluğu 50 cm olduğuna göre iki şeklin toplam çevre uzunluğu kaç santimetredir?

2



Kenar uzunluğu verilen kare şeklindeki çerçevenin çevre uzunluğu kaç santimetredir?

3



Yanda uzunlukları verilen Türk Bayrağı'nın çevre uzunluğunu hesaplayınız.



3. ETKİNLİK

Aşağıdaki problemleri çözünüz.

1/ Seher Hanım çevre uzunluğu 500 m olan parkın çevresini 6 kere yürümüştür. Seher Hanım kaç metre yol yürümüştür?

2/ Kare şeklindeki çerçevenin bir kenar uzunluğu 15 cm'dir. Bu çerçevenin çevre uzunluğu kaç santimetredir?

3/ Dikdörtgen şeklindeki bir tarlanın kısa kenarının uzunluğu 30 metredir. Uzun kenarının uzunluğu kısa kenarının uzunluğunun iki katıdır. Bu tarlanın çevresi kaç metredir?



1. ETKİNLİK

Aşağıdaki soruları cevaplayınız.

1. Aşağıdakilerden hangisi deprem sırasında yapılan doğru bir davranıştır?

- A) Balkona çıkmak.
- B) Sakin olmak.
- C) Asansörü kullanmak.

2. Aşağıdakilerden hangisi deprem çantasında mutlaka olması gereken araçlardan biri **değildir**?

- A) El feneri
- B) Kişisel reçeteli ilaçlar
- C) Temizlik malzemesi



2. ETKİNLİK


Aşağıdaki ifadelerden doğru olanların başına "D" yanlış olanların başına "Y" yazınız.

- () Deprem anında evi hemen terk etmeliyiz.
- () Deprem sırasında pencerelerden uzak durmalıyız.
- () Telefonları acil durumlar dışında kullanmamalıyız.
- () Sarsıntıdan sonra elektrik, doğalgaz ve su vanalarını kapatmalıyız.
- () Deprem sonrasında asansörü kullanmalıyız.



3. ETKİNLİK

Sıranızın üzerini önce kitap ile daha sonra da klasör ile ölçünüz. Ölçüm sonuçlarını yazarak karşılaştırınız.



4. ETKİNLİK

Aşağıdaki problemi çözünüz.

Ömer Bey'in salonuna 3 m²'lik halıdan 4 halı sığıdığına göre, salonun alanı yaklaşık kaç metrekaredir?



1. ETKİNLİK

Aşağıda karışık olarak verilen kelimeleri kullanarak anlamlı ve kurallı birer cümle yazınız.

atılmamalıdır / piller / çöpe

değildir / çöp / atıkları / ambalaj

camın / kumdur/ maddesi / ana



2. ETKİNLİK

Aşağıdaki verilen kelimelerin anlamlarını sözlükten bularak yazınız.

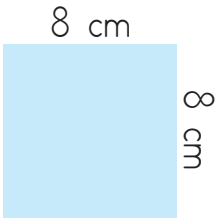

Kompozit: _____

Ambalaj: _____



3. ETKİNLİK

Aşağıdaki yüzeylerin alanlarını hesaplayınız.



4. ETKİNLİK

Aşağıdaki problemleri çözünüz.

1/ Ferda Hanım'ın kare şeklindeki oturma odasının bir kenar uzunluğu 5 m olduğuna göre odanın alanı kaç metrekaredir?


2/ Sedat Bey bahçesindeki her 7 metrekarelik alana bir elma ağacı diyor. Bahçenin tamamına 24 ağaç diktiğine göre bahçe kaç metrekaredir?

1. ETKİNLİK

Aşağıdaki görselleri örnekteki gibi isimleri ile eşleştiriniz.



1



2



3



4



5



6



7



8

a. Balıklı Göl (7)

c. Mevlana Türbesi (.....)

d. İshak Paşa Sarayı (.....)

f. Kapadokya (.....)

b. Topkapı Sarayı (.....)

ç. Sümela Manastırı (.....)

e. Aspendos (.....)

g. Nemrut Dağı(.....)

2. ETKİNLİK

Aşağıda verilen kelimeleri kullanarak anlamlı ve kurallı birer cümle yazınız.

Tarihi eser _____

Turizm _____

3. ETKİNLİK

Kilogram ve gram ile ölçülebilecek nesnelere örnekler veriniz.

Kilogram ile ölçülebilecekler	Gram ile ölçülebilecekler
Un	Vanilya

4. ETKİNLİK

Aşağıdaki nesnelere uygun tartma araçları ile eşleştiriniz.





1. ETKİNLİK

Atasözlerinde boş bırakılan yerlere gelecek doğru sözcüğü verilenler arasından seçerek yazınız.

Gönül kimi severse odur. (arkadaşın, güzel, iyi)

Gülü dikenine katlanır. (seven, bilir, gören)

Sağ elinin sol elin görmesin. (verdiğini, aldığı, kıldığı)

İyilik yap at. (tarlaya, kutuya, denize)



2. ETKİNLİK

Aşağıda tanımları verilen sözcükleri yazınız.

İnsanı bir şeye veya bir kimseye karşı yakın ilgi ve bağlılık göstermeye yönelten duygu.

S _ V _ _

Her şeyi anlayışla karşılayarak olabildiği kadar hoş görme durumu, müsamaha, tolerans.

H _ _ G _ _ Ü

Korku, çekinme ve kuşku duymadan inanma ve bağlanma duygusu, itimat.

_ Ü _ _ N

Bir kimsenin veya bir başka canlının karşılaştığı kötü durumdan dolayı duyulan üzüntü, acıma.

M _ _ H _ _ _ _



3. ETKİNLİK

Aşağıdaki problemleri çözünüz.

1/ 24 kg ceviz 3 kaba eşit miktarda bölüştürülüyor. Her bir kapta kaç kg ceviz olur?

2/ Ayşe Hanım manavdan 1 kg domates, 500 g salatalık, 5 kg patates, 500 g çilek aldı. Ayşe Hanım toplam kaç kg'lık alışveriş yapmıştır?

3/ Bülent Bey kasaptan 1 kg 500 gram et alıyor. 1 kg et 50 lira olduğunu göre Bülent Bey'in kasaba kaç lira ödemesi gerekir?



1. ETKİNLİK

Aşağıda yarım bırakılan metni tamamlayıp metne uygun bir başlık yazınız.

.....

Yerel seçimler yaklaşmaktadır. Mahallede çekişmeli bir seçim olacağı bellidir. Menekşe Hanım muhtar adaylarından kadın adayı desteklemektedir. Ancak eşi Erdal Bey, çocukluk arkadaşı olan eski muhtarın seçilmesini istemektedir. Erdal Bey:

_ Muhtarımızın seçilmesini istiyorum çünkü

.....

.....

.....

.....

.....



2. ETKİNLİK

Aşağıdaki verilen nesnelere litre ile ölçülenleri işaretleyiniz.

- () Pirinç
- () Benzin
- () Elma
- () Meyve suyu
- () Zeytin



3. ETKİNLİK

Aşağıdaki problemleri çözünüz.

1/ Reyhan Hanım günlük kullanacağı zeytinyağını bir yağdanlığa koyuyor. Bir yağdanlık 3 bardak zeytinyağı almaktadır. Reyhan Hanım ayda 4 kere yağdanlığı doldurmaktadır. Buna göre Reyhan Hanım ayda kaç bardak zeytinyağı kullanmaktadır?

2/ Bir demlikten 15 bardak çay çıktığına göre, 4 demlikten kaç bardak çay çıkar?

3/ Bir damacana su ile 10 sürahi dolmaktadır. 3 damacana ile kaç sürahi dolar?



1. ETKİNLİK

Evinizin yanındaki parkın temizliğinin ve ağaçların bakımının yapılabilmesi için belediyeye bir dilekçe yazınız.

.....BELEDİYE BAŞKANLIĞI
ÇEVRE KORUMA MÜDÜRLÜĞÜNE

...../...../.....

T.C. Kimlik No.
Ad Soyad (İmza)

Telefon:.....

Adres:.....

.....



2. ETKİNLİK

Ortak kullanım alanlarının temiz olması için neler yapabiliriz? Aşağıya yazınız.



3. ETKİNLİK

Aşağıdaki boşlukları doldurunuz.

$$2300 \text{ ml} = \dots\dots 2 \dots\dots \text{ l } \dots\dots 300 \dots\dots \text{ ml} \quad 6 \text{ l} = \dots\dots\dots\dots\dots\dots \text{ yarım litre}$$

$$1 \text{ l } 250 \text{ ml} = 1250 \dots\dots\dots\dots \quad 8 \text{ yarım litre} = \dots\dots\dots\dots \text{ litre}$$



4. ETKİNLİK

Aşağıdaki problemleri çözünüz.

1 Litresi 20 lira olan zeytinyağından yarım litre alan bir kişi kaç lira öder?

2 Yandaki tabloda bir işletmenin altı aylık su tüketimi yer almaktadır. Altı ayda toplam 1350 l su tüketildiğine göre üçüncü ayda kaç litre su tüketilmiştir?

Aylar	Harcanan Su Miktarı
OCAK	250 l
ŞUBAT	300 l
MART
NİSAN	200 l
MAYIS	175 l
HAZİRAN	225 l
TOPLAM	1350 l

1. ETKİNLİK

Verilen görsellerin anlamlarını tahmin ediniz ve yanlarına yazınız.


















2. ETKİNLİK

Aşağıda verilen soruları tabloya göre cevaplayınız.

Günler	Hava Olayı	Sıcaklık Derecesi (°C)
Pazartesi		4
Salı		3
Çarşamba		5
Perşembe		10
Cuma		7
Cumartesi		13
Pazar		4

1. Tabloya göre haftanın hangi günleri güneşlidir?

.....

2. Tabloya göre haftanın kaç günü bulutludur?

.....

3. Tabloya göre en sıcak gün hangisidir?

.....



3. ETKİNLİK

Evlerde, en çok kullanılan yağlarla ilgili 200 hanede bir araştırma yapılmıştır. 200 hane içerisinde 45 hanede zeytinyağı, 70 hanede ayçiçek yağı, 35 hanede tereyağı ve 50 hanede fındık yağı kullanıldığı görülmüştür. Bu verilere göre bir tablo oluşturunuz.



Yağlar ve Tüketim Sıklığı

Yağ Çeşitleri	Sayı

1. GÜN 3. ETKİNLİK
3, 8, 0

2. GÜN 6. ETKİNLİK
16 bardak, 32 şişe

3. GÜN 4. ETKİNLİK
1) 3 onluk, 7 birlik
37
2) 9 onluk, 7 birlik
97

5. ETKİNLİK
1) 5 onluk, 2 birlik
52
2) 7 onluk, 4 birlik
74

4. GÜN 4. ETKİNLİK
6 deste bardak, 3 armut

5. GÜN 5. ETKİNLİK

Sayı	348		
Basamak Adı	Yüzler Basamağı	Onlar Basamağı	Birler Basamağı
Basamak Değeri	300	40	8
Sayı	425		
Basamak Adı	Yüzler Basamağı	Onlar Basamağı	Birler Basamağı
Basamak Değeri	400	20	5

1. HARF GRUBU ETKİNLİĞİ

A	B	C	Ç	D	E	F	G
Ğ	H	I	J	K	L	M	
N	O	Ö	P	R	S	Ş	
T	U	Ü	V	Y	Z		

@	b	c	ç	d	e	f	g	ğ	h
i	j	k	l	m	n	o	ö	p	r
s	ş	t	u	ü	v	y	z		

6. GÜN 8. ETKİNLİK

Sayı	1428			
Basamak Adı	Binler Basamağı	Yüzler Basamağı	Onlar Basamağı	Birler Basamağı
Basamak Değeri	1000	400	20	8

Sayı	2044			
Basamak Adı	Binler Basamağı	Yüzler Basamağı	Onlar Basamağı	Birler Basamağı
Basamak Değeri	2000	0	40	4

7. GÜN 3. ETKİNLİK
kokulu, oku, unlu, kulak, kule

45	50	55	60	65	70	75	80	85	90		
10	20	30	40	50	60	70	80	90	100	110	120
100	200	300	400	500	600	700	800	900	1000		

8. GÜN 5. ETKİNLİK
1) 40 2) 98 3) 117 4) 179 5) 356
6) 857 7) 1276 8) 1173 9) 2247

6. ETKİNLİK

SAYI BULMACASI

2	3	4
4	2	3
3	4	2

9. GÜN 7. ETKİNLİK
1) 61 2) 124 3) 110 4) 793 5) 41
6) 164 7) 64 8) 130 9) 151 10) 251

2. HARF GRUBU ETKİNLİĞİ
1) MAKİNE 2) YAY 3) OLTA 4) OKUL
5) KOYUN 6) KAYKAY 7) ANTEN

10. GÜN 7. ETKİNLİK
MARKET, Ömer, marketten, armut, tere, Roka,
Öykü'ye

250	Tahmini Sonuç	400
+ 148	Gerçek Sonuç	398
398		

Tahmini sonuç gerçek sonuçtan 2 fazladır.

9. ETKİNLİK

Tahmini Sonuç	60
Gerçek Sonuç	55

Tahmini sonuç gerçek sonuçtan 5 fazladır.

11.
GÜN

3. ETKİNLİK

Akın tirmik al.
İtir takı taktı.
Tank okula kayıtlı.

6. ETKİNLİK

Aralık ayı yılın son aydır.
Tank daldan dut aldı.

7. ETKİNLİK

Aydos, Ormanı, İstanbul'da, Anadolu, yakasının,
ormanlık, alanıdır, ortasındadır

8. ETKİNLİK

45 + 18	63
80 + 12	92
69 + 10	79
13 + 17	30
22 + 18	40
51 + 27	78
20 + 14	34
16 + 32	48
35 + 15	50
40 + 20	60

12.
GÜN

3. ETKİNLİK

Suna ninene elma soy.
Selim dürüst insandır.
Sema salatanın limonunu sık.

6. ETKİNLİK

soba, sabır, ebe, sarı

7. ETKİNLİK

Babam tarlaya bamya ekti.
Babam bisikleti onardı mı?
Burak otomobile bindi.

8. ETKİNLİK

- 1) $8 + 2 + 6 = 16$ yumak ip almıştır.
- 2) $112 + 48 = 160$ adet fayans almıştır.

3. HARF GRUBU ETKİNLİĞİ

13.
GÜN

3. ETKİNLİK

Ablam kırmızı kazak ördü.
Suzan müzeye gitti.
Zeki sekiz tane zeytin yedi.

4. ETKİNLİK

Zeynel, kızı, Zerrin, zeytin

5. ETKİNLİK

- 1) 24 2) 73 3) 102 4) 212 5) 633 6) 126 7) 4200
- 8) 2000 9) 1012 10) 1237 11) 600 12) 4345

14.
GÜN

3. ETKİNLİK

Seçil çatal, bıçak satın aldı.
Selma annesine çiçek aldı.
Ayça uzun yola çıktı.

4. ETKİNLİK


çelik, çomak, çilek, çekirdek, içtik

5. ETKİNLİK

- 1) 9 2) 19 3) 209 4) 78 5) 1149 6) 5172
- 7) 420 8) 6038 9) 9000

15.
GÜN

1. ETKİNLİK



4. ETKİNLİK

Gürkan'a gitar çaldım.
Gizem Giresun'a gitti.
Bugün gözlük almaya gittim.

5. ETKİNLİK

Geç olsun da güç olmasın.
Yazın Giresun'a tatile gittik.
Gizem limonlu gazoz aldı.
Özge göz doktoruna gitti.
Gelen gideni aratır.
Gözden irak olan gönülden de irak olur.

15.
GÜN

8. ETKİNLİK

Şenay kaskol ördü.
Akşam ışıklar açık kalmış.
Babam kışık odun aldı.
Yaşar çaya şeker attı.
Gamze bugün gazete okudu.
Şeyma ile Şenol şiir okudu.

9. ETKİNLİK

45 - 21	-24
150 - 90	-60
50 - 30	-20
34 - 14	-20
140 - 40	-100
82 - 22	-60
110 - 10	-100
74 - 24	-50
56 - 10	-46
70 - 53	-17
45 - 5	-40
42 - 14	-28

16.
GÜN

3. ETKİNLİK

Ece ilaç aldı.
Ece eczaneden ilaç aldı.
Ece bugün eczaneden ilaç aldı.

4. ETKİNLİK

Canan, canı, olunca, canla

7. ETKİNLİK

Peynirli pide yedik.
Perşembe günü pide yedik.
Perşembe günü peynirli pide yedik

8. ETKİNLİK

Pazar, pidelerinin, pideleri, pazarlar, yaparız,
sürprizim, sürprizi

9. ETKİNLİK

28 - 13

Tahmini Sonuç	Gerçek Sonuç	Fark
30	28	20
10	13	15
20	15	05

63 - 27

Tahmini Sonuç	Gerçek Sonuç	Fark
60	63	36
30	27	30
30	36	06

150 - 55

Tahmini Sonuç	Gerçek Sonuç	Fark
150	150	95
60	55	90
90	95	05

4. HARF GRUBU ETKİNLİĞİ

P	K	S	O	B	A	C	E	Ç
Y	G	Ö	M	L	E	K	İ	A
M	A	T	A	R	A	A	O	Y
E	R	I	S	A	Z	R	Ü	Y
B	A	C	A	Ö	I	G	S	P
Z	N	S	R	Ş	G	A	Z	B
M	E	L	M	A	K	M	U	M
A	P	K	A	Ş	İ	K	L	C
S	G	M	S	İ	R	A	K	S
A	P	I	R	A	S	A	N	A

17.
GÜN

3. ETKİNLİK

Hatice bahçeye hanımeli dikti.
Seher hamsiye harika pişirir.

5. ETKİNLİK

- 1) $40 - 4 = 36$ kardeşin yaşı
 $40 + 36 = 76$ yaşların toplamıdır.
- 2) $12 + 6 = 18$ toplam tabak
 $18 - 3 = 15$ tabak kalmıştır.

18.
GÜN

3. ETKİNLİK

Vildan eve cezve aldı.
Vildan kahve ve cezve aldı.
Vildan eve kahve ve cezve aldı.

7. ETKİNLİK

Çiğdem soğan doğradı.

5. ETKİNLİK

Çiğdem yemeğe soğan doğradı.

Çiğdem yemeğe soğan, sarımsak doğradı.

9. ETKİNLİK

- A) 1) 6 2) 18 3) 25 4) 32 5) 80
6) 150 7) 48 8) 60 9) 126
B) 1) $3 \times 5 = 15$ 2) $5 \times 2 = 10$ 3) $4 \times 6 = 24$ 4) $4 \times 3 = 12$

19.
GÜN

3. ETKİNLİK

Ferhat fazla mesai yaptı.
Ferhat bu hafta mesai yaptı.
Ferhat bu hafta fazla mesai yaptı.

4. ETKİNLİK

vefa, fedakârlık, fazilet

5. ETKİNLİK

- 1) 100 2) 108 3) 44 4) 300 5) 900 6) 186
7) 1840 8) 4500 9) 6550 10) 36 11) 88
12) 300 13) 500 14) 930 15) 1000 16) 1500
17) 2500

20.
GÜN

4. ETKİNLİK

- $16 \times 7 = 112$ adet biber fidesi almıştır.
- $8 \times 2 = 16$ süt paylaşmıştır.
 $16 + 3 = 19$ süt vardır.

5.HARF GRUBU ETKİNLİĞİ

- Yukarıdan Aşağıya
2. EMPATİ 4. DESTE 6. YEŞİLAY 9. TRAFİK
11. YAYA 12. YARIM
- Soldan Sağa
1. DÜZİNE 3. DEPREM 5. İTFAİYE 7. SEL
8. ÖN YARGI 10. ÇEYREK

21.
GÜN

2. ETKİNLİK

Erdem(.) Oğuz ve Mehmet çok heyecanlıydı.(.)
Birazdan üniversite sınav sonuçları açıklanacaktı.(.)

3. ETKİNLİK

Fatma pazara gitti. Bol bol meyve ve sebze aldı.

Eve geldi. Sebze ve meyveleri dolaba yerleştirdi.
Akşam yemeği için taze fasulye pişirdi.

4.ETKİNLİK

- 1) 22 2) 21 3) 15 4) 3 5) 5 6) 4

22.
GÜN

1. ETKİNLİK



OKUL GEÇİDİ



HASTANE



YAYA GEÇİDİ

ENGELLİ ARAÇ
PARK YERİ

YAYA GİREMEZ



DURAK

2. ETKİNLİK

Trafik kurallarına uymak hayat kurtarır.
Nevin Konya otobüsüne bindi.
Ayşe Diyarbakır Kalesi'ne yakın oturuyor.
Ali'nin Babası yarın İstanbul'a gidecek.
Bahçeden patlıcan, kabak, pazı, barbunya ve biber topladık.

4. ETKİNLİK

- $48+36=84$ yumak ip kullanılmıştır.
 $84 \div 4 = 21$ kazak üretilmiştir.
- $30 \times 3 = 90$ üretilen maske miktarı
 $90 \div 10 = 9$ paket maske üretilmiştir.

23.
GÜN

3. ETKİNLİK

ÜNAL

Ünal hafta sonu teyzesine gezmeye gitti.(.) Kuzen-
leri; Ahmet(.) Hale, Seher ve Ali ile hasret giderdi.
Bahçede hep beraber topladılar, zıpladılar.(.) Ünal
akşam hasta oldu.(.) Teyzesi ile hemen hastaneye
gittiler. Hemşire Ünal'ın ateşini ölçtü. Doktor Ünal'ı
muayene etti. Teyzesi doktora;

(-)Ünal'ın nesi var(?)

Doktor:

(-)Biraz üşütmüş.

Teyzesi:

(-)Eyvah(!) Ben böyle olacağını biliyordum.(.)

4. ETKİNLİK



yarım



çeyrek



bütün



bütün



yarım



çeyrek

5. ETKİNLİK

- 4 çeyrek simit, 1 bütün simit eder.
1 bütün elma, 2 yarım elma eder.
2 yarım portakal, 1 bütün portakal eder.

6. ETKİNLİK

- 8 çeyrek portakal, 7 çeyrek limon

24.
GÜN


1. ETKİNLİK

B


3. ETKİNLİK

D,D,Y

4. ETKİNLİK

 $\frac{1}{4}$  $\frac{1}{1}$  $\frac{1}{2}$  $\frac{1}{4}$  $\frac{1}{1}$  $\frac{1}{1}$  $\frac{1}{4}$  $\frac{1}{2}$

25. GÜN 3. ETKİNLİK
5, 4, 3
5 4 3




26. GÜN 1. ETKİNLİK
Sevdiklerinizin yanınızda olduğu nice bayramlar dilerim.
29 Ekim 1923 Cumhuriyetin ilan edildiği tarihtir.
Birlik ve beraberlik milleti güçlü kılar.
Türkiye Cumhuriyeti'nin kurucusu Atatürktür.
Bayramlar küçüklerin büyükleri ziyaret ettiği gündür.
2. ETKİNLİK

Zafer Bayramı	→ 23 Nisan
Ulusal Egemenlik ve Çocuk Bayramı	→ 29 Ekim
Atatürk'ü Anma ve Gençlik ve Spor Bayramı	→ 30 Ağustos
Cumhuriyet Bayramı	→ 19 Mayıs

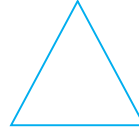
3. ETKİNLİK




kare



dikdörtgen



üçgen



çember

27. GÜN 1. ETKİNLİK
23 Nisan 1920
Mehmet Âkif Ersoy

2. ETKİNLİK
Ankara'da Anıtkabir'e gittim.
Mehmet'in yüzü güldü.
Malatya'nın kayısı meşhurdur.

4. ETKİNLİK



Kitabın boyunu **cetvel** ile ölçeriz.
Boyumuzu **metre** ile ölçeriz.
Terzi ölçü alırken **mezura** kullanır.
Kapının yüksekliğini **metre** ile ölçeriz.

28. GÜN 3. ETKİNLİK

2) 2 m 10 cm
4) 6 m 50 cm
4 ETKİNLİK
200 cm = 2 m
680 cm = 6 m 80 cm

9 m = 900 cm
530 cm = 5 m 30 cm
7 m = 700 cm
150 cm = 1 m 50 cm
465 cm = 4 m 65 cm
3 m = 300 cm

29. GÜN 2. ETKİNLİK
Y, D, D, Y

3. ETKİNLİK
3 km = 3000 m
7000 m = 7 km

3500 m = 3 km 500 m
4 km = 4000 m
1000 m = 1 km
8200 m = 8 km 200 m

30. GÜN 1. ETKİNLİK

1) Çamaşır makinesi almak için alışverişe çıkmıştı.
2) Parasının bir kısmını harcadığı için istediği makineyi alamadı.

2. ETKİNLİK
İki bir tüketici olmak için ihtiyaçlarımızı iyi belirlemeliyiz.

3. ETKİNLİK

1) 24 : 2 = 12 metre
2) 3 km = 3000 metre
3000 - 500 = 2500 metre yol kalmıştır.
3) 6500 - 2400 = 4100 metre yol kalmıştır.
4) 60 x 2 = 120 kilometredir.

31. GÜN
3. ETKİNLİK
1) $50+50+50+50+50+50=300$ santimetre

2) $19+19+19+19=76$ santimetre
3) $150+100+150+100=500$ santimetre

32. GÜN
3. ETKİNLİK
1) $500 \times 6 = 3000$ m

2) $15+15+15+15=60$ cm
3) $30 \times 2 = 60$ m uzun kenar $60+30+60+30=180$ m

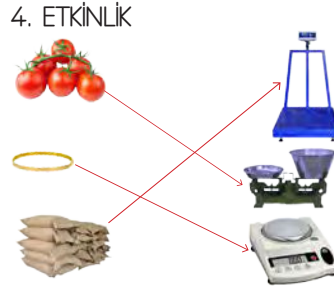
33. GÜN
1. ETKİNLİK
1) B 2) C
2. ETKİNLİK
Y, D, D, D, Y

4. ETKİNLİK
 $3 \times 4 = 12$ metrekaaredir.

34. GÜN
1. ETKİNLİK
Piller çöpe atılmamalıdır.
Ambalaj atıkları çöp değildir.
Camin ana maddesi kumdur.

3. ETKİNLİK
 $6 \times 3 = 18$ metrekaare
 $8 \times 8 = 64$ metrekaare
4. ETKİNLİK
1) $5 \times 5 = 25$ metrekaare
2) $24 \times 7 = 168$ metrekaare

35. GÜN
1. ETKİNLİK
b. Topkapı Sarayı (3)
c. Mevlana Türbesi (1)
ç. Sümela Manastırı (2)
d. İshak Paşa Sarayı (6)
e. Aspendos (4)
f. Kapadokya (8)
g. Nemrut Dağı (5)



36. GÜN
1. ETKİNLİK
Güzel, seven, verdiği, denize
2. ETKİNLİK
SEVGİ, HOŞGÖRÜ, GÜVEN, MERHAMET

3. ETKİNLİK
1) $24 \div 3 = 8$ kg
2) $500 + 500 = 1000$ g 1000 g = 1 kg $1+1+5=7$ kg
3) 500 gram yarım kilogramdır. 50 TL' nin yarısı da 25 TL' dir. $50+25=75$ TL

37. GÜN
2. ETKİNLİK
benzin, meyve suyu

3. ETKİNLİK
1) $3 \times 4 = 12$ bardak zeytinyağı
2) $15 \times 4 = 60$ bardak çay çıkar.
3) $10 \times 3 = 30$ sürahi su dolar.

38. GÜN
3. ETKİNLİK
 6 l = 12 yarım litre
 1 l 250 ml = 1250 ml
8 yarım litre = 4 litre

4. ETKİNLİK
1) $20 \div 2 = 10$ TL
2) $250 + 300 + 200 + 175 + 225 = 1150$
 $1350 - 1150 = 200$ l

39. GÜN
1. ETKİNLİK
1) İşitme engelli işareti
2) Görme engelli yürüme yolu
3) Braille kabartma yazısı
4) Engelli rampası
2. ETKİNLİK
1) Cumartesi
2) 3 günü
3) Cumartesi

3. ETKİNLİK
Yağlar ve Tüketim Sıklığı

Yağ Çeşitleri	Sayı
Zeytinyağı	45
Ayçiçek yağı	70
Tereyağı	35
Fındık yağı	50

KİTAPLAR

Aksoy, Ö.A. Atasözleri ve Deyimler(1 ve 2). İnkılap. İstanbul.2015

Millî Eğitim Bakanlığı. Matematik Dersi Öğretim Programı (İlkokul ve Ortaokul 1,2,3,4,5,6,7 ve 8. Sınıflar). Ankara. 2018.

Millî Eğitim Bakanlığı. Türkçe Dersi Öğretim Programı (İlkokul ve Ortaokul 1,2,3,4,5,6,7 ve 8. Sınıflar). Ankara. 2018.

Millî Eğitim Bakanlığı Hayat Boyu Öğrenme Genel Müdürlüğü. Yetişkinler I. Kademe Okuma Yazma Öğretimi ve Temel Eğitim Programı. Ankara. 2018.

İNTERNET KAYNAKÇASI

s.95 <https://kuran.diyenet.gov.tr/tefsir/A'r%C3%A2f-suresi/985/31-ayet-tefsiri>
(14.10.2020)

<https://sozluk.gov.tr/>

<https://www.tdk.gov.tr/tdk/kurumsal/yazim-kilavuzu/>

GÖRSEL KAYNAKÇA

Kitapta 13, 40, 56, 63, 96, 99, 113, 120, 121, 128. sayfalarında yer alan görseller telif hakkı ödenerek www.shutterstock.com sitesinden alınmıştır.

Kitapta 9, 13, 20, 40, 45, 55, 56, 63, 78, 92, 96, 97, 99, 101, 105, 106, 113, 117, 120, 121, 129, 130. sayfalarında yer alan görseller ise yayınevi arşivinden kullanılmıştır.